

**Фонд оценочных средств для входного контроля и
промежуточной аттестации обучающихся
по учебному предмету «Русский язык»
(типовой вариант)
(2-4 классы)**

Обязательная часть учебного плана.

Предметная область: Русский язык и литературное чтение

¹ Данный вариант фонда оценочных средств является типовым для учителя-предметника, ежегодно на основании приказа директора школы в ООП НОО вносятся изменения в форме дополнения.

2 класс

Входной контроль.

Контрольный диктант .

В лесу.

Хорошо в лесу! Дует тёплый ветерок. Поют дрозды. На лугу цветы. В траве ягоды. Под берёзой вырос гриб. У сосны нора крота. Жёлтый лист упал с осины. Скоро наступит осень. (32 слова)

Грамматические задания.

1. Подчеркнуть в предложении главные члены.
1 вариант – во втором предложении.
2 вариант – в шестом предложении.
1. Выписать любое трёхсложное слово и разделить его чертой для переноса.
2. 3-4 предложениях орфограммы на изученные правила.

Промежуточная аттестация.
Контрольный диктант.

Май.

Май. Настали теплые деньки. Зеленая листва укрыла деревья. Весело поют дрозды и чижи. На земле сочная травка. В лесу цветут душистые ландыши. Зреют лесные ягоды. Гудят шмели. Пчела летит от цветка к цветку. В цветах сладкий сок. У ручья урчат лягушки. К воде ползет уж. (46 слов).

Слова для справок: настали, зелёная, сочная, зреют, лесные, сладкий,
(учитель орфографически проговаривает безударные окончания имен
прилагательных и глаголов)

Входной контроль.

Контрольный диктант.

Прощальная песня.

Вечером шёл дождь. Под утро мокрую траву схватил мороз. Холодный ветер поселился в лесу. Он бродил между сосен. Перелетал от поляны к поляне. Грустно шумели вековые ели. Я стоял на опушке и слушал прощальную песню леса. С неба упал журавлиный крик. Почему печально кричат журавли? Птицы сделали круг над Волгой и полетели к югу.

Я вспомнил песни о журавлях. Они, как осенний птичий крик, весёлые не бывают.

Грамматическое задания:

1.Разобрать по членам предложения и частям речи, выписать словосочетания.

1в. В холодном воздухе носились лёгкие снежинки.

2в. В прошлом декабре стояли сильные морозы.

2.Подобрать и написать 3 однокоренных слова (сущ., прил., гл.) с корнями:

1в. – рыб-

2в.- стар-

-сад -

-див-

**Промежуточная аттестация.
Контрольный диктант.**

Соловьиная песня

Закатилось солнце. Угасает длинный день. Смолкают голоса птиц.
Наступает тишь.

Но вот в сумраке вечера послышалась новая птичья песня. Певец пробует свой сильный чудесный голос. Щёлкнул, издал протяжный свист. Помолчал чуточку, снова засвистал, залился трелью.

Кто это так хорошо поёт в сумерках? Вот он сидит на суку. Сам серый. Ростом с воробья.

Птичка подняла головку, открыла клюв. Легко и свободно плывёт в ночной тишине соловьиная песня.

Грамматическое задание

1. Выпишите из текста два слова с безударными гласными в корне. Рядом запишите проверочные слова.
2. Выпишите из текста два слова с приставками. Приставки выделите.
3. Разберите предложения по членам: вариант 1 - второе, вариант 2 — третье.

4 класс

Входной контроль.

Контрольный диктант.

Клюква.

Кислая и очень полезная для здоровья ягода клюква растёт летом, а собирают её поздно осенью. Самая сладкая клюква бывает весной, когда пролежит всю зиму в снегу.

В начале апреля дети отправились на болото. Сначала дорога была широкая. Потом она превратилась в узкую тропу. Вдоль тропы стояли сухие травы. Можно долго ходить по болоту и не понять, что под ногами клюква. Ягоды прячутся в болотных кочках и не видны. Наклонился взять одну ягодку, а вытянул длинную зелёную ниточку с многими клюквинками.

По М.Пришвину

Слова для справок: растёт, бывает, превратилась.

Грамматическое задание

1. Разобрать слова по составу: стол, походка, мостики, зелёный.
2. записать слова в две группы, вставляя пропущенные буквы: мыш..., луч..., ноч..., малыш..., помощ..., плащ..., полноч..., мяч...
3. Обозначить грамматическую основу: вариант 1- в третьем предложении, вариант 2- в шестом предложении.

**Промежуточная аттестация.
Контрольный диктант.**

Последние денечки.

Ранним мартовским утром проснулось солнце. Отдёрнуло оно лёгкое кружево облаков и взглянуло на землю. А там за ночь зима да мороз свои порядки навели. Около берёзки свежий снежок бросили, холмы молочным туманом укрыли. А в лесочке ледяные сосульки на соснах развесили. Радостно ребятишки бегут по последнему снежку.

Поглядело светило на эти проказы и стало землю пригревать. Лёд и снег сразу потускнели. По лесной ложбинке побежал весёлый говорливый ручеёк. Он бежал и пел свою песенку о весне.

Грамматическое задание

1. В последнем предложении выделить основу. Над каждым словом указать части речи.
2. Разобрать слова как части речи. Укрыли, молочным, в лесочке.

Критерии оценивания письменных работ предмета «Русский язык»

Диктант.

- «5» – за работу, в которой нет ошибок.
- «4» – за работу, в которой допущено 1 – 2 ошибки.
- «3» – за работу, в которой допущено 3 – 5 ошибок.
- «2» – за работу, в которой допущено более 5 ошибок.

Примечание: Повторная ошибка в одном и том же слове считается за одну ошибку, а ошибки, допущенные на одно и то же правило в разных словах, считаются как две.

Грамматическое задание.

- «5» – без ошибок.
- «4» – правильно выполнено не менее 3/4 заданий.
- «3» – правильно выполнено не менее 1/2 заданий.
- «2» – правильно выполнено менее 1/2 заданий.

**Фонд оценочных средств для промежуточной аттестации обучающихся
по учебному предмету «Литературное чтение»
(типовой вариант)
(2-4 классы)**

Обязательная часть учебного плана.

Предметная область: Русский язык и литературное чтение

¹ Данный вариант фонда оценочных средств является типовым для учителя-предметника, ежегодно на основании приказа директора школы в ООП НОО вносятся изменения в форме дополнения.

**Входной контроль.
Контрольное тестирование.**

Вариант 1

Прочитай текст. Выполни задания.

Слон сильный и умный.

Слон большой, слон сильный и умный, это все знают. Домашний слон в Индии носит тяжёлые грузы, таскает воду и даже нянчит маленьких детей.

А вот увидеть стадо диких слонов не каждому удаётся. У слона почти нет врагов. Но если слон почувствует опасность, он крадётся тихо, как мышка.

Бывает, у слоновой тропы свернётся кольцами гигантская змея питон и набросится на маленького слонёнка, который отстал от стада. Слонёнок затрубит, завизжит. Вмиг кинутся слоны спасать слонёнка. Всё стадо бежит кругом и топчет питона, как будто пляшет на нём. А уж когда спасут слонёнка, попадёт ему от слонихи-матери, чтобы слушался взрослых и не отставал от стада.

(106 слов)

(Г. Снегирёв)

Задания:

1. Отметь лишнее утверждение.

Слон ...

- 1) ... большой
- 2) ... сильный
- 3) ... умный
- 4) ... слабый

2. Отметь верное утверждение.

Если слон почувствует опасность, он ...

- 1) ... убегает
- 2) ... зовёт слонёнка
- 3) ... крадётся тихо, как мышка
- 4) ... крадётся тихо, как кошка

3. Отметь значение слова **гигантская** (змея).

- 1) большая
- 2) очень большая
- 3) слабая
- 4) сильная

4. К какому жанру относится этот текст?

- 1) сказка

- 2) рассказ
- 3) загадка
- 4) басня

5.Какую работу может выполнять домашний слон? Коротко запиши.

Вариант 2

Прочитай текст. Выполни задания.

Брат и младшая сестра.

Идут Санька и Варя из лесу, тащат корзинки с грибами маслятами.

- Что ж ты, Саня... - говорит бабушка. – Маленькая-то больше набрала!

- Ещё бы, - отвечает Санька. – Она к земле ближе, вот и набрала.

Во второй раз отправляются в лес Варя и Санька. Малину собирать. И я пошёл вместе с ними.

И вдруг вижу, как Санька, незаметно от Вари, подсыпает ягоды её в кузовок. Варя отвернётся, а он возьмёт и подсыплет.

Идем обратно. У Вари ягод больше. У Саньки меньше.

Встречается бабушка.

- Что ж ты, - говорит, - Саня? Малина – то высоко растёт!

- Высоко, - соглашается Санька.

- Так тебе дотянутся легче, а Варя больше набрала!

- Еще бы! – отвечает Санька. – Варя у нас молодец. Варя у нас работница. За ней не утонишься!

(112 слов)

(Э. Шим)

Задания:

1. Что Санька и Варя собирали в лесу?

- 1) грибы маслята
- 2) грибы рыжики
- 3) малину
- 4) рябину

2. Подбери синоним к слову **тащат**.

- 1) толкают
- 2) несут
- 3) ползут
- 4) везут

3. В какое время года происходят события, описанные в тексте?

- 1) зимой
- 2) весной
- 3) летом
- 4) осенью

4. Что помогло определить время года?

5. Можешь ли ты согласиться с высказыванием?

Автор восхищается своим героем Санькой.

1) да

2) нет

**Промежуточная аттестация.
Тестирование.**

Вариант 1

1. Кто из поэтов является автором цикла «Игрушки»?

- 1) А. Барто
- 2) С. Михалков
- 3) С. Маршак
- 4) К. Чуковский

2. Почему мальчики не заметили, как шляпа накрыла котёнка?

- 1) Они читали книгу.
- 2) Они раскрашивали картинки.
- 3) Они смотрели мультфильмы.
- 4) Они играли в шашки.

3. Какую ошибку совершил Котёк?

- 1) Ещё раз залил горку водой.
- 2) Сломал горку.
- 3) Посыпал горку песком.
- 4) Испортил горку коньками.

4. Вспомни стихи К. Чуковского «Радость» и «Путаница». Как называются такие маленькие стихи в устном народном творчестве?

- 1) сказки
- 2) пословицы
- 3) поговорки
- 4) небылицы

5. В произведениях, какого писателя есть герои: астроном Стекляшкин, Гунька, Мишка с его злополучной кашей, всё вылезавшей и вылезавшей из кастрюли?

- 1) С. Михалкова
- 2) Н. Носова
- 3) К. Чуковского
- 4) С. Маршака

6. Из какого произведения взяты строки?

Мы стащили с кровати одеяло и завесили им стол. Вот и получился дом.

- 1) «Живая шляпа»
- 2) «На горке»
- 3) «Затейники»
- 4) «Приключения Незнайки»

7. Прочитай загадку К. Чуковского, выбери отгадку.

Красивые двери в пещере моей,
Белые звери сидят у дверей.
И мясо, и хлеб – всю добычу мою –
Я с радостью белым зверям отдаю.

- 1) губы и зубы
- 2) глаза и ресницы
- 3) нос и рот
- 4) руки и ноги

8. Прочитай загадку С. Маршака, выбери отгадку.

Всегда шагаем мы вдвоём,
Похожи мы, как братья,
Мы за обедом – под столом,
А ночью – под кроватью.

- 1) тапочки
- 2) носки
- 3) сапоги
- 4) ножки стула

Вариант 2

1. Кто из писателей является автором книги «От двух до пяти»?

- 1) К. Чуковский
- 2) С. Маршак
- 3) А. Барто
- 4) С. Михалков

2. Почему мальчики не стали больше играть в «три поросёнка»?

- 1) Они долго играли, и им надоело.
- 2) Пришла мама и стали их ругать.
- 3) Они боялись, что кто-нибудь опять схватит за ногу.
- 4) Игра была скучная.

3. Почему Котька посыпал горку песком?

- 1) Никак на горку не мог взобраться.
- 2) Решил навредить.
- 3) Чтобы никто не мог кататься с неё.
- 4) Чтобы никто больше не падал.

4. Какое из произведений К. Чуковского можно назвать небылицей?

- 1) «Муха-цокотуха»
- 2) «Краденое солнце»
- 3) «Путаница»
- 4) «Федорино горе»

5. Почему произведения писателей К. Чуковского, С. Маршака, С. Михалкова, А. Барто и Н. Носова объединены в один раздел?

- 1) Ругают детей.
- 2) Хвалят детей.
- 3) Помогают избавиться от недостатков, изображая их в смешном, комичном виде.
- 4) Радуются хорошим детским поступкам.

6. Из какого произведения взяты строки?

Они взяли кочергу и лыжную палку, приоткрыли дверь и заглянули в комнату.

- 1) «Затейники»
- 2) «Живая шляпа»
- 3) «На горке»
- 4) «Приключения Незнайки»

7.Прочитай загадку К. Чуковского, выбери отгадку.

Хожу-брожу не по лесам
А по усам, по волосам,
И зубы у меня длинней,
Чем у волков и медведей.

- 1) гребешок
- 2) зубная щётка
- 3) сапожная щётка
- 4) мочалка

8.Прочитай загадку С. Маршака и выбери отгадку.

В Полотняной стране
По реке Простыне
Плывет пароход
То назад, то вперед.
А за ним такая гладь –
Ни морщинки не видать.

- 1) лодка
- 2) плот
- 3) корабль
- 4) утюг

3 класс

Входной контроль.

Контрольное тестирование.

1. Работа с текстом «Бактерии».

1. Прочитай текст.

Бактерии.

Бактерии - это мельчайшие живые существа, которые невозможно увидеть невооружённым глазом. Это одна из простейших форм жизни. Бактерии больше всего похожи на растения, чем на животных. Они имеют разную форму: цилиндрическую, спиралевидную или шарообразную.

Существуют тысячи видов бактерий. Огромное количество бактерий можно найти повсюду, куда ни посмотри. Многие бактерии обитают в почве. Некоторые бактерии живут внутри нашего тела – они помогают нам переваривать пищу.

Большинство бактерий совершенно безвредны, но некоторые вызывают инфекции. Попадание некоторых бактерий в организм человека несёт опасность. Такие бактерии называют микробами. Для борьбы с микробами используют специальные лекарства. (88 слов)

(По материалам энциклопедии "Хочу всё знать")

2. Определи стиль текста: научный, художественный или публицистический.

3. Какова главная тема текста?

4. Допиши план.

1. _____

2. _____

3. Борьба с микробами.

5. Закончи предложение.

Для борьбы с микробами используют

6. Отметь рисунок, на котором на руках мальчика будет меньше микробов.



7. Объясни, как ты понимаешь выражение "совершенно безвредны".

8. Заполни таблицу, используя слова текста.

Вопрос?	Ответ:
Кто такие бактерии?	
Какую форму имеют бактерии?	
Где живёт наибольшее количество бактерий?	
Как называются бактерии, которые вызывают инфекцию?	

9. Подбери к словам синонимы.

обитают - _____

безвредный - _____

мельчайшие - _____

шарообразный - _____

10. Вставь пропущенную безударную гласную. Подчеркни грамматическую основу.

Некоторые бактерии передв...гаются с помощью маленьких усиков.

Промежуточная аттестация. Тестирование.

1. Прочитай текст.

Немецкая овчарка.

Немецкая овчарка похожа на своих диких предков. У неё торчащие уши, узкая, но мощная голова, сильные челюсти. А самое главное – выносливость, как у волка. Подобно волку, собака предпочитает жить в стае, в обществе других. Поэтому она так легко и безоговорочно подчиняется своему хозяину, которого воспринимает, как своего рода, вожака стаи. При этом собаке необязательно узнавать его при помощи зрения. Гораздо большее значение имеет для неё слух и особое чутьё.

Длинный нос собаки настолько чувствителен, что нам трудно даже представить. Для него в мире существует столько разных запахов различных оттенков, что собака может разыскать человека, совсем его не видя.

Собака чувствует и страх, и доверие, чувствует, когда хозяин возвращается издалека.

Немецкая овчарка очень вежливая и добрая собака, любит играть с детьми, с удовольствием играет и шалит. (125 слов)
(По Э. Бауэру)

2. Определи главную тему текста.

3. Определи тип текста: повествование, описание, рассуждение.

4. Озаглавь каждую часть текста вопросительным предложением.

1. _____
2. _____
3. _____
4. _____

5. Запиши, с каким животным сравнивает автор немецкую овчарку. Почему?

6. Подбери и запиши однокоренные слова. Выдели корень.

запах - _____

чувство - _____

шалит - _____

7. Выпиши из первого абзаца текста имена прилагательные. Разбери их по составу.

8. Вставь пропущенные буквы. Подчеркни все имена существительные.


Нач_лась в_сенняя охота. Дед Матвей пош_л со св_ей с_бакой уток да гусей постр_лять. Его верный пёс – х_роший охотник. Любую дичь из оз_ра выт_щит.

9. Подбери к данным словам синонимы.

сильные – _____

(с большим) удовольствием - _____

10. Оформи обложку книги, в которой помещён данный текст.



4 класс.

Входной контроль.

Контрольное тестирование.

Работа с текстом «Гнездо ласточки».

1. Прочитай текст.

Под крышей было гнездо ласточки. Хозяев в нём не было. Почуввав приближение холодов, они улетели. Прошла зима. А в конце апреля пара острокрылых, красивеньких птичек, весёлых, щебечущих, прилетела и стала носиться вокруг старого гнёздышка. Работа закипела. Ласточки носили в носиках глину и ил из ближнего ручья. Скоро гнёздышко, немного попортившееся за зиму, было отделано заново. Потом ласточки стали таскать в гнездо то пух, то пёрышки, то стебельки моха. Прошло ещё несколько дней, и уже только одна ласточка стала вылетать из гнезда, а другая оставаться в нём постоянно. Недели через три из гнезда стали выглядывать крошечные головки. Целыми днями заботливые птички носились по воздуху и ловили мух, комаров, мошек. Как быстро сновали они взад и вперёд, как неутомимо добывали пищу своим деткам!

(126 слов)

(По К.Ушинскому)

2. Определи тип речи: повествование, описание, рассуждение.

3. Определи главную тему текста.

4. Раздели текст на четыре части. Допиши недостающие пункты плана.

1. Гнездо пустует

2. _____ .

3. _____ .

4. _____ .

5. Как строили ласточки своё гнездо?

Подчеркни ответ в тексте.

6. Выпиши из предложения слова с безударной проверяемой гласной в корне.



Запиши с каждым словом проверочное.

Почуввав приближение холодов, ласточки улетели в тёплые края.

7. Заполни таблицу.

слово	антоним	синоним
выглядывать		
прилетать		

8. Определи последовательность событий.



9. Выпиши из текста по два слова, соответствующих данным схемам.



_____ , _____



_____ , _____

10. Найди и зачеркни названия птиц. Оставшиеся буквы подскажут, что еще за птица "спряталась" в магическом квадрате.

с	к	в	о	л	к	у	к
о	р	е	р	ц	а	с	у
я	т	л	е	а	п	л	ш
д	е	л	ц	е	й	я	к
с	о	л	о	в	т	г	а
п	а	в	г	у	с	р	к
п	о	л	и	н	ь	а	ч
о	п	у	г	а	й	ч	а

Промежуточная аттестация.

Тестирование .

1. Узнай произведение. Укажи его название и автора.

1) В этом произведении главный герой был великаном, хотя при этом оставался обычным человеком.

2) В этом произведении главная героиня пожертвовала своей жизнью ради любви.

3) Главного героя этого произведения учитель часто наказывал.

4) В этом произведении рассказывается о ночи, в которую происходили чудеса.

5) Этим произведением заканчивается раздел.

1. В этом произведении можно узнать о подводной жизни.

2. Стрелками соедини авторов с их произведениями.

1) С. Лагерлёф а) «Путешествие Гулливера»

2) Д. Свифт б) «Святая ночь»

3) М. Твен в) «Русалочка»

4) Г.Х. Андерсен г) «Приключения Тома Сойера»

д) «В Назарете»

3. Догадайся, из какого произведения эти вещи. Укажи название произведения и автора.

1) Глиняная серая птичка.

2) Персик.

3) Острый нож.

4) Длинная остроконечная палка.

5) Длинные лестницы.

6) Грифельная доска.

4. Назови имя.

1) Настоящее имя Марка Твена.

2) Полное имя Сельмы Лагерлёф.

3) Имя девочки, в которую был влюблён Том Сойер.

4) Имя матери Иисуса.

—

Оценка тестов.

Тестовая форма проверки позволяет существенно увеличить объем контролируемого материала по сравнению с традиционной контрольной работой (диктантом с грамматическим заданием) и тем самым создает предпосылки для повышения информативности и объективности результатов. Тест включает задания средней трудности.

Проверка может проводиться как по всему тесту, так и отдельно по разделам. Выполненная работа оценивается отметками. Считается, что ученик обнаружил достаточную базовую подготовку, если он дал не менее 75% правильных ответов.

Один из вариантов оценивания:

- "высокий" - все предложенные задания выполнены правильно;
- "средний" - все задания с незначительными погрешностями;
- "низкий" - выполнены отдельные задания.

Примечание: Учащихся следует подготовить заранее к выполнению работы. Для этого надо выделить 10-15 минут в конце одного из предшествующих уроков. Рекомендуется записать на доске 1-2 задания, аналогичные включенным в тест и выполнить их вместе с учащимися.

Базовый уровень 0 - 60%	60 - 77%	77 - 90%	90 - 100%
"2"	"3"	"4"	"5"

**Фонд оценочных средств для промежуточной аттестации обучающихся
по учебному предмету «Родной (чеченский) язык»
(типовой вариант)
(2-4 классы)**

Обязательная часть учебного плана.

Предметная область: Родной язык и литературное чтение на родном языке

¹ Данный вариант фонда оценочных средств является типовым для учителя-предметника, ежегодно на основании приказа директора школы в ООП НОО вносятся изменения в форме дополнения.

2 класс.

Хьалхара(входной) жам1даран талламан болх .

Тхан школа

Тхан школа хазачу меттехь йу. Школан кораш даккхий ду.
Корашна т1ехь зезагаш лаьтта. Оха хи туху. Хаза ду тхан класса чохь. Оха дика доьшу.

Грамматически т1едиллар: мукъачу элпашна цхьа сиз, мукъазчарна ши сиз хьакха.

Шеран жам1даран талламан болх.

Хьуьнхахь.

Ц1ена ду хьуьнхара х1аваъ. Абу хьуьнха талла воьду. Жаьла а дуьгу цо шеца. Хьун тийна хета. Амма хьуьнхахь кхехкаш дахар хуьлу. Цхьанхьа тебна цхьогоал доьду ,кхечанхьа хьуьнан к1оргехь генаш кегдеш лела партала ча.

3 класс.

Хьалхара (входной) жам1даран талламан болх.

Бошмийн доттаг1ий.

Дитта т1ехь д1атобхна бен бу. Цу чохь олхазарш деха. Олхазарш бошмийн доттаг1ий дуйла хаьа суна. Ас уьш кьехка ца до. Цундела тхан дитташ т1е стоьмаш дуккха а латабо.

Грамматически т1едилларш.

1. Шолг1а предложени меженашца талла.
2. Сехьадаха ма-деззара декъа а доькьуш д1аязде дешнаш: дитта, доттаг1ий, тхан, кьехка, дукха

Шеран жам1даран талламан болх .

Хасбеш.

Хасбеша дахара бераш. Цигахь белхаш бира цара.Цхьаболчара хасстоьмашна асар дира, вукхара хи диллира. Дукха хасстоьмаш гулбийр бу хасбешара. Цигахь йийна дика кхуьуш ю копастанаш а, ж1онкаш а, наьрсаш а. Муьлхачу хасстоьмана хи маца дилла дезаа, молханаш муьлханаш тохадеза а хьобху агрономо берашна.

Грамматически т1едилларш.

1. Хьалхарчупредложенехьбилгалгьяхакоьртамеженаш, дешнашна т1ехула къамеландакъошбилгалдаха
- 2.Текста юкьарасхьаяздецхьаллин а, дуккхаллин а терахьеракхоккхадош.
- 3.Сехьадахама-деззарадекъа а доькьуш д1аязде дешнаш: йийна, асар, хасстоьмаш, дукха, диллира.

4 класс.

1. Хьалхара (входной) жам1даран талламан болх .

Хьуьнах дахар.

Сарахь оха тхешан т1обьрмигаш кечдира. 1уьйранна тхо новкъадевлира.Тхобца тхан хьехархо а вара. Сада1а билгалъяьккхинчу меттехь севцира тхо. Амма тхан накъосташна дика некъ карийра. Тхо оцу новкъа д1адахара. Таьххъара а сада1а боккха 1ам болчохь севцира тхо. Ц1еххъана тхуна хезира бер доьлхуш. Тхо девдда цига дахара.Жима ши йо1 тилаелла хиллера. Оха и шиь новкъаяьккхира.

Грамматически т1едиллар:

- 1.Пхобалг1а предложении меженашца талла. Дешнийн цхъанакхетарш схъаязде.
- 2.Шолг1ачу предложенехь къамелан дакъош билгалдаха.
3. Схъаязде мукъаза шалха элпаш цхъана нисделла дешнаш.

Шеран жам1даран талламан болх.

Шовданийн боъра.

Дуккха шовданаш долуш бара х1ара боъра. Кегийра, ц1ена г1ум ловзош хьалакхуьйсуре ша санна шийла, сирла шовданаш. Кхуза обхура Малх-Арера мехкарий хит1а. Кхузахь малхчубуззуш цхьанакхетара уьш кегийчу нахаца.

Кхузахь дара уггар доккха шовда а, юххехь коьллаш а, жима д1анехьа хьун а йолуш.

Зама маърша яцара,ткъа шовданийн боъра юьртана юьстахо бара. Цундела наноша ца магадора цига хит1а эхар.

Т1едиллар:

- 1) Шолг1а предложении къамелан дакъошца талла.
- 2) Цхьаорам болу дош схьалаха, уьш муьлхачу дожарехь ду билгалдаха.

2-4 классийн дешархойн ненан маттах долчу хаарийн х1иточу оценкийн барамаш

I. 2-4 классашкахь ечу талламан диктангийн мах хадор.

Диктант – иза офографех а, пунктуацех а долу хаарш талларан кеп ю. Талламан дешнийн диктанто зох кхета хала йолу офограммаш.

Текст хоржуш, кху некъех пайдаэца беца:

1. Диктантан текст шен чулацамехь дешархой кхеташ а, х1инцалерчу литературни метган лехамашца юьззина нийса йог1уш а хила еза.
2. Диктантан дерриге а дешнаш дешархошна кхеташ хила деза. К1езиг лелош а, девзаш доцу а дешнаш довза а довзуйту, доски т1е д1а а яздо.
3. Диктантан текстехь хала дешнаш хилахь, цу дешнийн нийсаяздар дешархоша 1амийна а дацахь, и дешнаш доски т1е д1аяздо.
4. Текст йоьшучу хьехархочо д1аешар литературни нийса а, муха яздан деза, дешархошна д1а ца хоуйтугчу кепара а хила деза. Масала, *К1айн, 1ежийн, халкъан* бохучу дешнашкахь, литературни аларан норманашца цхьабна а дог1уш, чаккхенгара н ца олу, ткъа *саьрмик, чег1ардиг* дешнашкахь г-ний, к-ний хьалхахь долу и а долуш санна олу.
5. 1 чийрик чекхдаллалц текстан барам кхул хьалхарчу классехь хилларг магабо.

2-4 классийн дешархойн диктангийн мах хадорехь хьехархочо куьйгалла оьцу кху некъех:

1. Диктантехь орфографически а, пунктуационни а г1алаташ къабст-къабстина лору, оценка юкъара юьллу.
2. Диктантана «5» дуьллу, нагахь цхьа а орфографически г1алат дацахь я цхьаннал сов пунктуационни г1алат ца хилахь.
3. «4» дуьллу, кхааннал сов орфографически а, щиннал сов пунктуационни а г1алат ца хилахь (я шиь орфографически, кхоь пунктуационни г1алат хилахь).
4. «3» дуьллу, ялханнал сов орфографически а, пхеаннал сов пунктуационни а г1алат ца хилахь (я 5 орфографически, 5 пунктуационни г1алаташ хилахь).
5. «2» дуьллу, иттаннал сов орфографически а, пхеаннал сов пунктуационни а (я барх1аннал сов орфографически а, ворх1аннал сов пунктуационни а) г1алаташ ца хилахь.

Дешархочун балха т1ехь г1алат лара деза, орфографически а, пунктуационни а, муьлхха а бакьо талхош, диктант язьяле оьцу классехь я цул лахарчу классашкахь 1амийнчух иза хилахь. Нагахь санна талламан диктантехь 5 ша дина нисдарш хилахь (нийса цаяздинарг нийсачуьнца хийцина) оценка цхьана баллана лаг1йо, иштта оценка «5» ца дуьллу, диктантехь 3 я цул сов нисдарш хилча.

Оценка юьллуш, ца лоруш дуьту:

1. Программехь йоцу я Iамийна йоцу орфографически а, пунктуационини а бакьонаш талхош долу гIалаташ/

2. Тилкхаздаьлла гIалат (описка) лору, масала, *белхало* хила дезачохь *белхано* яздинехь, *Луьйре* хила дезачохь *Луьйле* яздинехь.

3. Нохчийн маттахь зевне мукъаза й (йот) яздар, масала: йоза хила дезачохь *еза* яздахь, йогIу (егIу), юьртахь (йуьртахь), юьгу (йуьгу) яздахь.

4. Орам ларбеш а, ораман аьзнаш хийцалуш а терахьдешнаш яздар, масала: *исс - иссалгIа-уьссалгIа, итт - итталгIа - уьтталгIа*.

5. Кьовсамечу мсттигашкахь чолхечу дешнийн нийсаяздар, масала: *пайдаэцар - пайда эцар, нийсаяздар нийса- яздар, гIодар - гIо дар*, и. дI. кх.

6. Дешнашкахь дифтонгаш язъяр: *къега- кьизга, терса- тиэrsa, оза-уоза, еха - йиэха*, и. дI. кх. а.

7. Цердешнийн кьовсаме яздар: *стогалла- стагалла, мох – мохан-механ - махан, морха*, и. дI. кх. а.

Дешархоша далийтинчу гIалаташна юкьара даккхий а, кегий а гIалаташ кьасто деза.

Даккхий гIалаташ лору:

1. Хьалхенца Iамийна а, йозанехь алсам пайдаоьцуш а йолу орфографически, пунктуационни бакьонаш талхош долу гIалаташ:

2. Мукъазчу элпашна юккье яз деш долу кьасторан хьаьркаш, масала: *хIаллакьхилла, меттахьхьайра*.

3. Дсшхьалхенца йолчу я чолхечу инфинитиван суффиксийн язъяр.

4. Хандсшнех хиллачу тайп-тайпанчу кьамелан дакьойн яздар (*оху -охуна я охана, тоьгу - тоьгуна я тоьгана*).

5. Хандешан ихначу хенан язъяр, масала: *бохура я бахара, моьттура я моттара*.

6. Кху кенара цердешнийн яздар: *дечиган я дечган, эчиган я аьчган*.

7. Цердешнийн а, билгалдешнийн а массо кьобалыйна тIеэчна йолу яцйинчу а, юьззинчу а форманийн язъяр, масала: *гIуллакх я гIулкх, гIиллакх я гIилкх*.

Дсшархочун балха тIехь цхьамогIа (кхоь я цул сов) цхьана бакьонна нислуш гIалаташ хилахь, диктантана оценка лакхаяккха мега, масала, дешан чаккхенга н яздарехь, доца шеконан элпаш (а, и, у,) яздарехь.

Комплексни талламан белхашкахь, диктантах а, тIедилларех а

(фонетически, лексически, орфографически, грамматически, пунктуационни) лаьттачу, ши оценка юьллу-хIора балхана шен-шен.

ТIедилларийн мах хадорехь куьйгалла оьцу кху некьех:

«5» дуьллу, массо а тIедиллар нийса кхочушдинехь;

«4» дуьллу, тIедилларийн $\frac{3}{4}$ дакьа нийса динехь;

«3» дуьллу, болх ах я цул сов нийса бинехь;

«2» дуьллу, болх эханал кIезиг бинехь.

Билгалдаккхар:

Орфографически а, пунктуационни а г1алаташ, т1едиллар кхочушдарехь дина долу, диктантан мах хадош лору.

**Фонд оценочных средств для промежуточной аттестации обучающихся
по учебному предмету «Литературное чтение на родном (чеченском) языке»
(типовой вариант)
(2-4 классы)**

Обязательная часть учебного плана.

Предметная область: Родной язык и литературное чтение на родном языке

¹ Данный вариант фонда оценочных средств является типовым для учителя-предметника, ежегодно на основании приказа директора школы в ООП НОО вносятся изменения в форме дополнения.

2 класс.

1. Хьалхара (входной)жам1даран талламан тест.

Харжа нийса жоп:

1.Х1ун ю ненан когашкахь?

Мачаш пазаташ
ялсамани калош

2.Х1ун ала деза х1ума яале?

Бисмиллах1и ррохьманирохьим
Алхьамдулиллах1и раббил1аламийн.

3.Къола дича муьлха меже йоккху бусалба динехь

ког корта
куьг церг

4.Мила ву харцлийна барзо виьнарг?

тракторист комбайнер
таксист 1у

5. « Йовза произведени»

Пайхмара аьллачунна тидам бича ,вайна кара до ден, ненан сий дан, дог эца , лара , вай декхарийлахь хилар, къаьсттина ненан

Хиш сов шорта кхоьллина вай далла. Хи ца хилча, вай а хир дацара.

Цхьана юьртахь жа дажош 1у хилла. И 1у харцле 1емина хилла.

5. « Вовшах таса кица»

Дешар серло.....
Харц луйчу стеган
Сихалло са даьккхина...

Шеран жам1даран талламан тест .

«Йовза произведени».

1. Муълхачу стихотворени юкъара бу хлара моҗланаш:

К1ета йоьсси йоьза гуьйре
Бешахь месал мотт билла

- А) М.Мамакаев «Гуьйре».
- Б) Э. Мамакаев«Гуьйренан 1уьйре».
- В) 1. Мамакаев «Дагалецамаш».

2. Хъан язйна хлара дешнаш юкъадог1у стихотворени:

Маликате школехь хойтту:
-Дика муха доьшу ахь

- А) З. Сулейманова
- Б) М.Мамакаев
- В) М.Жамалдин
- Г) Ш.Акуев

3. Хъан яздина «Чен к1орнеш лийчор»

- А) Хь. Саракаев.
- Б) В. Бианки
- Г) 1. Мамакаев

4.Цхъана тоха произведенийн ц1ераш а, авторан ц1ераш а.

- | | |
|--------------------|-----------------|
| 1. К1ентий. | 1. Э.Мамакаев |
| 2. Гуьйренан1уьйре | 2. В. Осеева |
| 3. Нура. | 3. Т. Ахмадова. |

5. Хъан аьлла дешнаш.

Барзах а ца кхоьру ,цхьогалах а, ченах а- цхъаннах ца кхоьру.

1а шийла ду, цхъа а тайпа кхалла х1ума а ца карайо.Мац а елла , г1ел а елла.Х1ун дича бакъахъа дара-техъа аьлла, хаттаеанер-кх со ,аьлла къамел долийра

Со-м , тоххарехь схъа а кхаьчна, хьобга хьожуш 1аш ма ю , хьо-м яда мацало. _____

6. Вовшах таса кица.

Аьхка 1иллинарг _____

Б1аьста д1адийнарг _____

Ала атта ду _____

Вижна а 1уьллуш _____ -

3 класс.

Хьалхара (входной) жам1даран талламан тест.

Эхь-бехк.

1. Д1аеша текст.

Нинас урокашна кечам ца бинера. Цо школе ца яха сацам бира. Амма шена бевзачарна, ша белхан хенахь книжкашца ца гайта, Нина лечкьина боьлаке яхара.

Шен марта чохь долу т1оьрмиг а, книжкаш а коьллашна юккье д1а а ешкина, иза хазачу поллана т1аьхьаелира. Цигахь иза т1енисьелира цхьана жимачу к1антана, шег дикачу, тешамечу б1аьргашца хьобжуш волчу.

Цуьнан карахь тетрадь юккье диллина аббат а гина, Нинас цуьнца забар ян сацам бира.

- Х1ей, ваьлла леларг! – ч1ог1а элира цо. Жима волуш дуйна да-нана а, школернаш а 1ехош ву хьо?

- Х1ан-х1а! – жоп делира цецваьллачу к1анта.

- Со школе воьдуш вара. Кхузахь хьуьнахула лелаш цхьа доккха ж1аьла ду. Иза летира. Со, цунах кхера а велла, тилавелира.

Нина кхоьлина д1ах1оьттира. Амма жима к1ант, дагахь х1ума а доцуш, дог дика вара. Нинин дийзира, иза куьг а лаьцна, боьлакахула новкьа ваккха.

Ткьа Нинин книжкаш коьллашна юккьехь йисира, х1унда аьлча жимачу к1антана а гуш, уьш схьаэца цунна эхь хийтира.

Гаьннаш т1ехьара схьаиккхинчу ж1аьло, книжкаш 1адда а йитина, марта диира.

Юхайирзина Нина, охьа а хиьна, доггаха йилхира. Х1ан-х1а! Цунна новкьа дацара марта даар. Амма цуьнан коьрта т1ехула хаза эшарш локкхура синкьерамечу олхазарша. Нина ч1ог1а холчохь яра, цунна 1аламат ч1ог1а эхь хеттера. (177 дош)

2. Билгалъяккха х1ун текст ю иза:

а) Дийцаран

б) Сурт х1отторан

в) Ойлаяран

3. Яздархочо школехь йоккхург х1ун хан лору:

а) Белхан хан

б) Самукъане хан

в) Садо1у хан

4. Х1унда ца яхара Нина школе?

Текст юккьера схъалаха оцу хаттарна жоп луш йолу предложении.

Д1аязье

5. Х1ора билгалдашна маь1ница дог1у ц1ердош лаха.

а) Жима –

б) Доккха –

в) хаза –

6. Чекхъяха предложенеш:

1. Кхузахь хьуьнахула лелаш цхъа

2. Марта даар цунна

7. Схъаязье текста юкъара хаттаран предложени

Шеран жам1даран талламан тест.

Бохам.

1. Д1аеша текст.

Аьхкенан уггар довха де дара.

Органан бердана генахь йоцчу цхьана коьллаш юккьера инзаре ч1ог1ачу маьхьаршца пхьидаш екаш хезира. Иза дийнан делкъехь дара. Оцу балхах тхойша цецвелира. Цхьа бохам ца хилча, пхьидаш ека хан яцара х1ара. Х1ун ду-техьа х1ара аьлла, пхьидийн аьзнаш хезачу аг1ор т1евахара тхойша.

Схьагуш дерг иштта сурт дара: гуш жима ор дара, башха к1орга доцчу цу чохь хатт бара, кхехкаш долу худар санна, сийса а сийсаш. Дикка хьаьжча, и сийсош дерш пхьидийн сесий хилар гучуделира. Х1обттинчу йокъано ор чуьра д1адаьккхинера хи, иза доцуш х1аллакьхуьлуш лаьттара сесий.

Х1ара г1уллакх иштта дита мегар дац аьлла, генадоццуш доьдучу татол т1ера схьа пхьидийн ор чу хи даийта харш дакха х1обттира Султан. Ор чу хи деара, иза сихха хьала а дузуш.

Сесий сихонца хи чухула лела дубйладелира. Уьш х1аллакьхиларх хьалхадевлира.

(Хь. Хасаев)

2. Х1окху текстан тема билгалъе. Д1аяъе иза.

3.Билгаъяккха, х1ун текст ю иза. Нийса жоп билгалде.

- Дийцаран
- Сурт х1отторан
- Ойлаяран

4.Т1адамийн метга элпаш дахка. Билгалъяха коьрта меженаш.

Сес..й сих..нца хи чухула лела дуь..лад..лира.

5.Текст юккъера схъа а лахий, чекхъяккха предложени.

Ор чу хи деара, иза _____

6.Шина бог1амалгахь долу дешнаш х1уманан це цуьнан билгалонца х1отга.

Довха	малхо
Бовхачу	ор
Жима	де

7.Т1адамийн метга элпаш дахка. Билгалдаха предложенин дозанаш.

Органа го а б..на 1ачу пхь..даша ч1ог1а г1ов ..а йора тхойша т1ев..ача, уьш мет..ах а ца ..влира шайн к1орн..шна дан г1о доцуш, белх..м беш яра уьш.

4 класс.

Хьалхара (входной) жам1даран талламан болх.

Диаеша текст

Кьонах хьанах олу?

Мацах, ша вехачу юьртахь а, боллучу махкахь а дика цѣ йоккхуш цхьа кьонах хилла. Цуьнан « кьонах» аьлла цѣ дѣа хѣунда яхана талла дагадеьна цхьана сонтачу стагана:

- Хьох хѣундда алахь а, наха « кьонах» олу. Хьо сол а тѣх кьонах велахь, собца ницкъ а, майралла а кьовса еза ахь.

- Ой, ахь хѣун дуйцу, ницкъ хьан сайчул а сов хилар гуш ду, ткьа майралла ас хьуна дѣало. Вало чу, чай мер ду вайшимма, - аьлла, и сонта стаг чу а вигна, хьаша а вина, лелийна оцу кьонахчо. Шолагѣчу дийнахь сонтаниг ца вьодуш, цуьнан таьлсаш чу кхунна аьлла бийна хиллачу уьстагѣан гѣогѣ а диллина цо. Юха а ца кхеташ, сонтачо хаьттира:

- Ванах ницкъ а бац хььогахь, сол майра а вац хьо, ткьа хьох наха дика кьонах хѣунда олу техьа?

- Хьажал хьо, иштта хьо цецвийллал доккха хѣума а дац хуьна иза-м, ойла ѣе ахьа: ас хьо чувьча, хаза хабар дитѣирий хььога, даа-мала а хѣотѣирий хьуна?. Хѣинца, хьо цѣа вьодуш, тоьлсаш чу жижиг а диллиний хьуна? Сох хьайна оццул пайда баьлла хилча, хьан хѣун дов, со дика кьонах ву аьлча? – жоп делла дикачу кьонахчо.

П. Хатуева.

1. ХІун талла дагадеанера сонтачу стагана? Буха сийна сиз хьакха.
2. ХІун элира цо кьонахчуьнга? Буха можа сиз хьакха.
3. Муха гучудолу стеган кьонахалла? (Шайна хетарг дІаязде.)

Шеран жамІдаран талламан болх.

Берсанов Хож-Ахьмад «Жима Зарет».

1. Дийцар тІехь муьлха дешнаш хета хьуна коьрта? Схьаязде уьш.

2. Язде, хьуна хетарахь, хІун дара Хьусайне хи чу йоьдучуьра Зарет хьалаяккхийтинарг?

3. Хьан дахарехь нисъеллий иштта меттигаш? Хьайн дийцар кхоллий, дІаязье цуьнан план. ЦІе тилла цунна.

4. Йоьцца отзыв хІотгае хІокху дийцарна. Планах пайда эца.(Кьамел кхиорна лерина белхан тетрадах пайдаэца)

(Автор, произведенин ц1е)

Х1ара произведени _____

(Язде,хъанах лаьцна дуйцу кху произведенехъ)

Хъайна хетарг ала.

-Суна хетарехъ,сан доттаг1аша а х1ара произведени еша еза.

-Суна ца лаъа х1ара произведени сан доттаг1аша йоъшийла.

Дийца, х1унда хета хъуна иза иштта.

**2-4 классийн дешархойн ненан маттах долчу хаарийн
хитточу оценкийн барамаш.**

**2-4 классийн дешархойн мах хадорехь хьехархочо куьйгалла оьцу кху
некъех:**

Талламан белхана лерина 40 минут.

Х1ора т1едилларна 2 балл ло.

Т1едилларийн мах хадорехь куьйгалла оьцу кху некъех:

«5» дуьллу, массо а т1едиллар нийса кхочушдинехь;

«4» дуьллу, т1едилларийн $\frac{3}{4}$ дакъа нийса динехь;

«3» дуьллу, болх ах я цул сов нийса бинехь;

«2» дуьллу, болх эханал к1езиг бинехь я т1едиллар кхочуш ца динехь.

**Фонд оценочных средств для промежуточной аттестации обучающихся
по учебному предмету «Иностранный язык (английский)»
(типовой вариант)
(2-4 классы)**

Обязательная часть учебного плана.
Предметная область: Иностранный язык.

¹ Данный вариант фонда оценочных средств является типовым для учителя-предметника, ежегодно на основании приказа директора школы в ООП НОО вносятся изменения в форме дополнения.

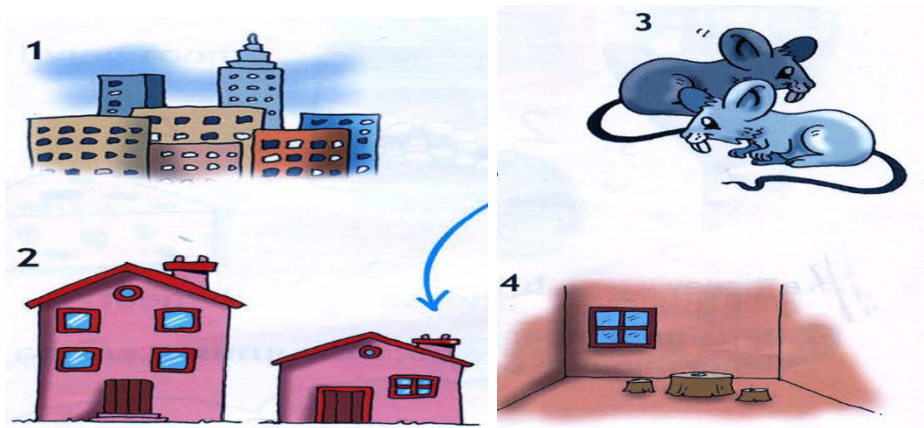
Контрольная работа по предмету «Английский язык».
2 класс.

1. Контрольная работа

1. Напишите буквы в алфавитном порядке


Вв. Ff, Rr , Tt, Dd, Uu, Aa , Hh, Ii, Oo, Pp, Ww, Qq,

2. Соотнеси слова с картинками.



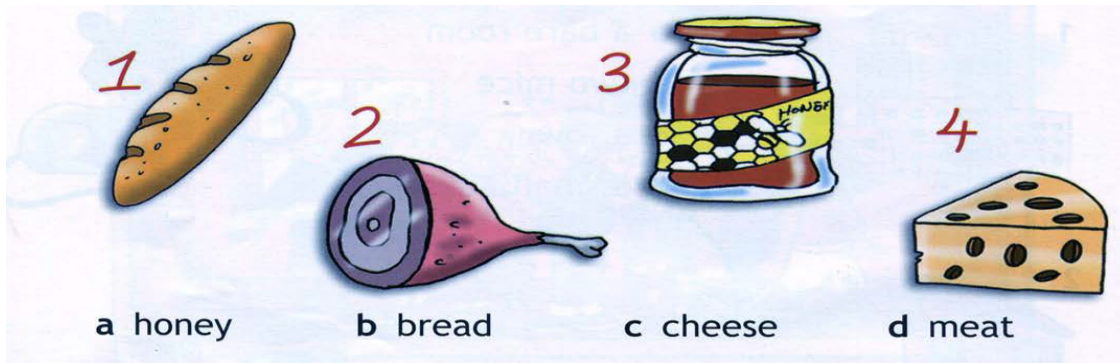
Aabareroombtwomicecatown dasmallhouse

3 Закончи предложение и перепиши его в тетрадь.



2. Контрольная работа


1 Соотнеси слова с картинками.



2 Перепиши предложения в тетрадь, вставляя в слова недостающие буквы.



3 Соотнеси слова с картинками.



3. Контрольная работа

1. Прочитай текст, закончи предложения и нарисуй спальню городского мышонка.

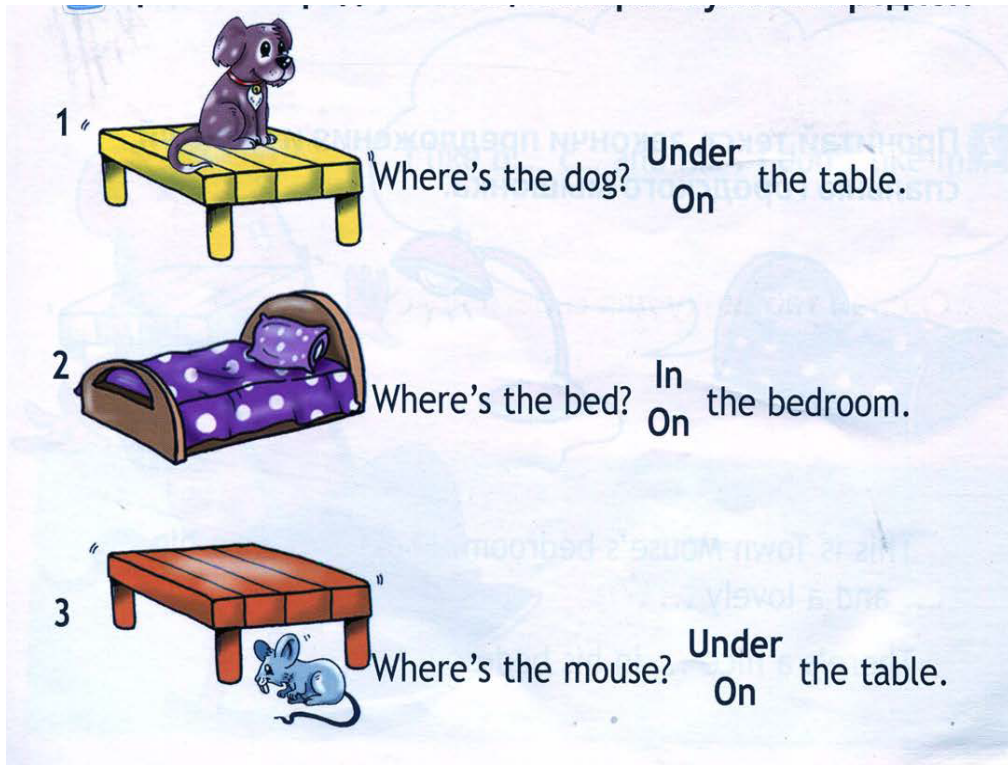


This is Town Mouse's bedroom. Look! There's a big and lovely
There's a nice in his bedroom too.


2. Прочитай предложения, вставляя соответствующее слово.

- 1 He's got ... eyes.
- 2 He's got a ... nose.
- 3 He's got ... ears.

3. Прочитай предложения, выбирая нужный предлог.



4. Посмотри на картинки и подбери правильные названия.



Критерии оценивания.

Критерии оценивания умений обучающихся младших классов (английский язык)

При обучении английскому языку детей 9-10 лет вряд ли стоит говорить о прямом контроле учебных действий, произносительных, грамматических, лексических навыков, а также речевых умений учащихся. Вместе с тем, занятия по иностранному языку, как и по любому общеобразовательному предмету, включённому в сетку часов начальной школы, должны оцениваться в какие-то фиксированные промежутки учебного времени (четверти, полугодия, годы) При изучении курса предполагается проведение 3-х видов контроля:

текущий: При проведении текущего контроля не делается акцент на урок контроля, а проверка ЗУН проводится в игровой ненавязчивой форме. (контроль ЗУН по лексике, грамматике, орфографии);

• **рубежный:** (аудирования, чтения, говорения или письма в конце четверти);

• **итоговый:** Важным условием контроля и оценки речевых умений учащихся также является соблюдение следующего условия: характер заданий, предлагаемых в качестве контрольных, должен быть хорошо знаком учащимся. (контроль всех видов речевой деятельности в конце учебного года).

Результаты проверочных (контрольных) работ оцениваются по пятибалльной шкале.

Критерии оценивания говорения .Монологическая форма

Отметка	Характеристика ответа
5	Учащийся логично строит монологическое высказывание (описание, рассказ) в соответствии с коммуникативной задачей, сформулированной в задании. Лексические единицы и грамматические структуры используются уместно. Ошибки практически отсутствуют. Речь учащегося понятна: практически все звуки в потоке речи произносятся правильно, соблюдается правильный интонационный рисунок. Объем высказывания - не менее 5 фраз
4	Учащийся логично строит монологическое высказывание (описание, рассказ) в соответствии с коммуникативной задачей, сформулированной в задании. Используемые лексические единицы и грамматические структуры соответствуют поставленной коммуникативной задаче. Учащийся допускает отдельные лексические и грамматические ошибки, которые не препятствуют пониманию его речи. Речь учащегося понятна, учащийся не допускает фонематических ошибок. Объем высказывания – не менее 5 фраз
3	Учащийся строит монологическое высказывание (описание, рассказ) в соответствии с коммуникативной задачей, сформулированной в задании. Но: - высказывание не всегда логично, имеются

	повторы, - допускаются лексические и грамматические ошибки, которые затрудняют понимание. Речь отвечающего в целом понятна, учащийся в основном соблюдает интонационный рисунок. Объем высказывания – менее 5 фраз
2	Коммуникативная задача не выполнена. Содержание ответа не соответствует поставленной в задании коммуникативной задаче. Допускаются многочисленные лексические и грамматические ошибки, которые затрудняют понимание. Речь плохо воспринимается на слух из-за большого количества фонематических ошибок.

Диалогическая форма

Отметка	Характеристика ответа
5	Учащийся логично строит диалогическое общение в соответствии с коммуникативной задачей. Учащийся демонстрирует навыки и умения речевого взаимодействия с партнером: способен начать, поддержать и закончить разговор. Используемый языковой материал соответствует поставленной КЗ. Лексические и грамматические ошибки практически отсутствуют. Речь учащегося понятна: он не допускает фонематических ошибок, практически все звуки в потоке речи произносит правильно, соблюдает правильный интонационный рисунок. Объем высказывания – не менее 3-4 реплик с каждой стороны.
4	Учащийся логично строит диалогическое общение в соответствии с коммуникативной задачей. Уч-ся в целом демонстрирует навыки и умения языкового взаимодействия с партнером: способен начать, поддержать и закончить разговор. Используемый словарный запас и грамматические структуры соответствуют поставленной КЗ. Могут допускаться некоторые лексические ошибки, не препятствующие пониманию. Речь понятна: нет фонематических ошибок, практически все звуки в потоке речи произносит правильно, в основном соблюдает правильный интонационный рисунок. Объем высказывания менее заданного: 3- 4 реплик с каждой стороны.
3	Уч-ся логично строит диалог в соответствии с КЗ. Однако не стремится поддержать беседу. Используемые ЛЕ и ГС соответствуют

	поставленной КЗ. Фонематические, лексические и грамматические ошибки не затрудняют общение. Но: - встречаются нарушения в использовании лексики, - допускаются отдельные грубые грамматические ошибки. Общеизвестные и простые слова произносятся неправильно. Объем высказывания менее заданного: 3- 4 реплик с каждой стороны.
2	КЗ не выполнена. Уч-ся не умеет строить диалогическое общение, не может поддержать беседу. Используется крайне ограниченный словарный запас, допускаются многочисленные лексические и грамматические ошибки, которые затрудняют понимание. Речь плохо воспринимается на слух из-за большого количества фонематических ошибок.

Критерии оценивания чтения учащихся

Отметка	Характеристика чтения
5	Хорошо владеет правилами чтения, практически не допускает ошибок. Темп чтения беглый, естественный (близкий к естественному). Ошибки делает незначительные и легко исправляет их сам. Демонстрирует освоенность всех изученных правил чтения. Учащийся полностью понял содержание текста и выполнил все задания к текстам.
4	Достаточно хорошо владеет техникой чтения, допускает 2-4 ошибки в пределах изученного материала, не препятствующих общему пониманию прочитанного, и сам может их исправить. Чтение в ровном темпе, с небольшими паузами. Учащийся понял содержание текста за исключением деталей и выполнив 2/3 заданий к тексту.
3	Темп речи невысокий, с заметными паузами. Использует простые речевые модели. Допускает большое количество ошибок, иногда препятствующих пониманию прочитанного. Учащийся понял только основное содержание текста и выполнил 1/3 задания к тексту
2	Большое количество грубых ошибок, часто препятствующих пониманию смысла

	прочитанного. Темп чтения низкий. Не владеет правилами чтения, допускает большое количество грубых ошибок, препятствующих пониманию прочитанного. Темп чтения очень низкий.
--	---

Критерии оценивания аудирования учащихся

Отметка	Характеристика ответов
5	Учащиеся полностью поняли содержание текста на слух и выполнили все задания по тексту. Полное понимание (90-100%) Максимально допустимое количество смысловых ошибок (искажение, опущение, добавление информации) при ответе на вопросы к прослушанному тексту – 1. Максимальное количество грамматических ошибок – 1.
4	Учащиеся поняли содержания текста без деталей на слух и выполнили 2/3 задания. Понято более 70% содержания Максимально допустимое количество смысловых ошибок (искажение, опущение, добавление информации) при ответе на вопросы к прослушанному тексту - 2. Максимальное количество грамматических ошибок – 2.
3	Учащиеся поняли только основной смысл текста на слух с небольшим искажением деталей содержания и выполнили 1/3 задания. Понято более 50% содержания. Максимально допустимое количество смысловых ошибок (искажение, опущение, добавление информации) при ответе на вопросы к прослушанному тексту – 2. Максимальное количество грамматических ошибок – 4.
2	Учащиеся не поняли содержания текста и выполнили задания по тексту не правильно. Понято менее 50% содержания. Максимально допустимое количество смысловых ошибок при ответе на вопросы к прослушанному тексту – более 3. Максимальное количество грамматических ошибок – 5.

Критерии оценивания письменной работы учащихся

Отметка	Объем правильно выполненных заданий (в % от общего объема работы)
5	Превышает 75% Учащийся выполнил грамматически правильно 4 задания
4	Не превышает 65-75% Учащийся выполнил 3 задания, допустив 2-3 грамматические ошибки.
3	Не превышает 50%-65% Учащийся допустил 4-5 грамматических ошибок и выполнил 1 задание.
2	Не превышает 25% Учащийся не выполнил ни одного задания правильно.

**Фонд оценочных средств для промежуточной аттестации обучающихся
по учебному предмету «Математика»
(типовой вариант)
(2-4 классы)**

Обязательная часть учебного плана.

Предметная область: Математика и информатика

¹ Данный вариант фонда оценочных средств является типовым для учителя-предметника, ежегодно на основании приказа директора школы в ООП НОО вносятся изменения в форме дополнения.

2 класс

Входной контроль.

Контрольная работа .

Вариант 1

1. Реши задачу:

На стоянке такси стояло 12 автомашин. После того, как несколько машин уехало, осталось 5 автомашин. Сколько автомашин уехало?

Составь и реши задачи, обратные данной.

2. Найди значения выражений:

$$6 + 7 - 9 =$$

$$15 - (3 + 5) =$$

$$10 + 3 - 4 =$$

$$8 + (12 - 5) =$$

$$18 - 10 + 5 =$$

$$9 + (13 - 7) =$$

3. Сравни, вставь вместо звёздочек знаки «<», «>» или «=»:

$$4 \text{ см } 2 \text{ мм} * 24 \text{ мм}$$

$$1 \text{ м} * 100 \text{ см}$$

$$7 + 4 * 19$$

$$59 \text{ мин.} * 1 \text{ ч.}$$

4. Начерти ломаную из трёх звеньев, зная, что длина ломаной 10 см.

5. Из чисел 48, 1, 14, 4, 40, 81, 8, 18, 84, 44, 80, 88 выпиши все двузначные числа в порядке возрастания.

6. У Тани и Маши вместе 13 орехов. Когда Таня съела 5 орехов и Маша ещё несколько, у девочек осталось 6 орехов. Сколько орехов съела Маша?

Вариант 2.

1. Реши задачу:

Рыболовы поймали несколько окуней. Из 9 окуней они сварили уху, и у них осталось ещё 7 окуней. Сколько всего окуней поймали рыболовы?

Составь и реши задачи, обратные данной.

2. Найди значения выражений:

$$5 + 8 - 9 =$$

$$14 - (2 + 5) =$$

$$10 + 5 - 6 =$$

$$4 + (16 - 8) =$$

$$19 - 10 + 7 =$$

$$9 + (18 - 10) =$$

3. Сравни, вставь вместо звёздочек знаки «<», «>» или «=»:

$$3 \text{ дм } 2 \text{ см} * 23 \text{ см}$$

$$1 \text{ см} * 10 \text{ мм}$$

$$8 + 5 * 14$$

$$1 \text{ ч.} * 30 \text{ мин.}$$

4. Начерти ломаную из трёх звеньев, зная, что длина ломаной 8 см.

5. Из чисел 62, 12, 6, 66, 20, 26, 2, 21, 16, 22, 60, 61 выпиши все двузначные числа в порядке убывания.

6. В коробке 15 конфет. Когда Саша съел 6 конфет и несколько конфет съел его брат, в коробке осталось 7 конфет. Сколько конфет съел брат?

Промежуточная аттестация.

Контрольная работа.

Вариант 1.

1. Реши задачу:

В магазине было 100 кг красных и жёлтых яблок. За день продали 12 кг желтых и 18 кг красных яблок. Сколько килограммов яблок осталось?

2. Вычисли, записывая решение столбиком:

$$54 + 38 = \qquad 62 - 39 =$$

3. Вычисли:

$$6 \cdot 2 = \qquad 16 : 8 =$$

$$20 : 2 = \qquad 2 \cdot 4 =$$

4. Сравни и поставь вместо звёздочки знак «<», «>» или «=»:

$$4 \text{ дес.} * 4 \text{ ед.} \qquad 5 \text{ дм} * 9 \text{ см}$$

$$7 \text{ ед.} * 1 \text{ дес.} \qquad 4 \text{ дм} 7 \text{ см} * 7 \text{ дм} 4 \text{ см}$$

5. Начерти прямоугольник со сторонами 6 и 2 см. Найди его периметр.

6 *. У Марины было 50 рублей. Папа дал ей 3 монеты. Всего у неё стало 70 рублей. Какие монеты дал папа Марине?

Вариант 2.

1. Реши задачу:

В куске было 100 м ткани. На пошив блузок израсходовали 24 м, а платьев – 36 м. Сколько метров ткани осталось?

2. Вычисли, записывая решение столбиком, и сделай проверку:

$$47 + 29 = \qquad 83 - 27 =$$

3. Вычисли:

$$7 \cdot 2 = \qquad 18 : 2 =$$

$$10 : 5 = \qquad 2 \cdot 8 =$$

4. Сравни и поставь вместо звёздочки знак «<», «>» или «=»:

$$6 \text{ дес.} * 6 \text{ ед.} \qquad 8 \text{ см} * 6 \text{ дм}$$

$$5 \text{ ед.} * 2 \text{ дес.} \qquad 3 \text{ дм} 4 \text{ см} * 4 \text{ дм} 3 \text{ см}$$

5. Начерти квадрат со стороной 5 см. Найди его периметр.

6 *. Если каждый из трёх мальчиков возьмёт из вазы по 4 абрикоса, в вазе останется ещё один абрикос. Сколько абрикосов было в вазе?

3 класс

Входной контроль. Контрольная работа .

Вариант 1.

1. Реши задачу:
В ёлочной гирлянде 7 красных лампочек, синих на 6 больше, чем красных, а жёлтых – столько, сколько красных и синих вместе. Сколько в гирлянде жёлтых лампочек?
2. Реши примеры:
 $75 + 20 =$ $90 - 3 =$ $45 - 5 + 7 =$
 $80 + 11 =$ $60 - 20 =$ $83 - (40 + 30) =$
3. Реши уравнение:
 $5 + x = 12$
4. Вставь в «окошки» числа так, чтобы записи были верными:
6 дм 3 см = см 50 мм = см
5. Вместо звёздочек вставь знаки «+» или «-», а в «окошки» запиши числа так, чтобы записи были верными:
* $8 < 13 - 8$ $25 + 5 = 37$ *
6. Начерти квадрат со стороной 6 см и вычисли сумму длин его сторон

Вариант 2.

1. Реши задачу:
На новогоднюю ёлку повесили 11 шаров, сосулек на 4 меньше, чем шаров, а шишек – столько, сколько шаров и сосулек вместе. Сколько шишек повесили на ёлку?
2. Реши примеры:
 $54 + 30 =$ $80 - 4 =$ $34 - 4 + 6 =$
 $70 + 12 =$ $40 - 10 =$ $95 - (60 + 20) =$
3. Реши уравнение:
 $X + 7 = 16$
4. Вставь в «окошки» числа так, чтобы записи были верными:
5м 8 дм = дм 60 мм = см
5. Вместо звёздочек вставь знаки «+» или «-», а в «окошки» запиши числа так, чтобы записи были верными:
 $11 - 7 < * 7$ $68 * = 57 + 3$
6. Начерти квадрат со стороной 4 см и вычисли сумму длин его сторон

Промежуточная аттестация.

Контрольная работа.

Вариант 1

1. Решите задачу:

Продавец цветов сделал большой букет из 9 роз и несколько маленьких букетов, по 3 розы в каждом букете. Сколько маленьких букетов сделал продавец, если всего у него было 30 роз?

2. Сравните выражения:

$7 \times 8 \dots 6 \times 9$

$4 \times 6 \dots 9 \times 3$

$36:9 \dots 42:7$

$27:3 \dots 56:8$

3. Выполните вычисления:

$70:14 \times 13 =$

$170 + 320 - 200 =$

$54:(90:5) =$

$480:6 + 780 =$

4. Запишите числа в порядке возрастания:

276, 720, 627, 270, 762, 267, 726, 672, 260, 706.

5. Геометрическая задача:

Ширина прямоугольника 7 см, а длина в 2 раза больше ширины.

Вычислите периметр этого прямоугольника и площадь.

- * Доктор прописал семерым гномам принимать каждому по 3 таблетки в день в течение недели и дал им 9 упаковок лекарства по 20 таблеток в каждой. Хватит ли гномам пилюль?

Вариант 2

1. Решите задачу:

Продавцы украсили большую витрину магазина 15 синими мячами, а остальные витрины украсили красными мячами, по 6 мячей в каждой витрине. Сколько витрин украсили красными мячами, если всего для украшения витрин приготовили 39 мячей?

2. Сравните выражения:

$6 \times 7 \dots 9 \times 4$

$3 \times 8 \dots 2 \times 9$

$48:6 \dots 54:9$

$24:3 \dots 36:6$

3. Выполните вычисления:

$80:16 \times 2 =$

$250 + 430 - 300 =$

$57:(76:4) =$

$420:7 + 590 =$

4. Запишите числа в порядке убывания:

513, 310, 315, 531, 301, 503, 351, 350, 530, 305.

5. Геометрическая задача:

Длина прямоугольника равна 1 дм 2 см, а ширина в 2 раза меньше длины. Вычислите периметр этого прямоугольника и площадь.

6. * Вини – Пух, Братец Кролик и Пятачок вместе съели 7 банок сгущенки. Пятачок съел в два раза меньше Братца Кролика, а Братец Кролик – в два раза меньше Вини – Пуха. Кто сколько сгущенки съел?

4 класс

***Входной контроль.
Контрольная работа .***

І вариант

1. Решите задачу.

С одного участка школьники собрали 160 кг моркови, а с другого – в 2 раза больше. Четвертую часть всей моркови они израсходовали на корм кроликам. Сколько килограммов моркови израсходовали на корм кроликам?

2. Найдите значения выражений.

$$18 + 36 : 9 + 6 \cdot 8 - 50$$

$$400 - (80 + 180 : 3) + 60$$

3. Решите примеры столбиком.

$$138 + 567 \quad 152 \cdot 6$$

$$447 - 189 \quad 867 : 3$$

4. Переведите.

$$125 \text{ см} = \dots \text{ м} \dots \text{ дм} \dots \text{ см} \quad 7 \text{ м } 3 \text{ см} = \dots \text{ см}$$

$$847 \text{ дм} = \dots \text{ м} \dots \text{ дм} \quad 700 \text{ см}^2 = \dots \text{ дм}^2$$

5. Начертите прямоугольник со сторонами 5 см и 3 см. **Найдите его площадь и периметр.**

II вариант

1. Решите задачу.

На одном участке школьники вырастили 240 кг капусты, на другом – в 2 раза меньше. Четвертую часть всей капусты израсходовали на корм кроликам. Сколько килограммов капусты израсходовали на корм кроликам?

2. Найдите значения выражений.

$$(18 + 36) : 9 + 6 \cdot 8 - 50$$

$$720 : (2 + 7) + (140 - 90)$$

3. Решите примеры столбиком.

$$523 + 197 \quad 279 \cdot 3$$

$$831 - 369 \quad 792 : 2$$

4. Переведите.

$$8 \text{ м } 4 \text{ см} = \dots \text{ см} \quad 275 \text{ см} = \dots \text{ м } \dots \text{ дм } \dots \text{ см}$$

$$900 \text{ см}^2 = \dots \text{ дм}^2 \quad 631 \text{ дм} = \dots \text{ м } \dots \text{ дм}$$

5. Начертите прямоугольник со сторонами 6 см и 2 см. Найдите площадь и периметр этого прямоугольника.

Промежуточная аттестация.

Контрольная работа.

Вариант 1

1. Решите задачу.

Для библиотеки в первый день купили 12 книжных полок, а во второй – 16 таких же полок по той же цене. За все полки заплатили 840 000 р. Сколько денег истратили в первый день и сколько денег истратили во второй день?

2. Выполните вычисления столбиком:

$$810\ 032 - 94\ 568 \qquad 258\ 602 : 86$$

$$329\ 678 + 459\ 328 \qquad 7\ 804 \cdot 56$$

$$36\ 285 : (392 - 27 \cdot 13)$$

3. Сравните:

$$430 \text{ дм} \dots 43 \text{ м}$$

$$3 \text{ ч } 2 \text{ мин} \dots 180 \text{ мин}$$

$$2 \text{ т } 917 \text{ кг} \dots 2\ 719 \text{ кг}$$

4. Начертите квадрат, периметр которого равен периметру прямоугольника со сторонами 3 см и 5 см. Найдите площадь прямоугольника и квадрата.

5. Решите задачу на логическое мышление.

В корзину с красными яблоками положили 15 зеленых яблок. После того как из корзины взяли половину всех яблок, в корзине осталось 18 яблок. Сколько красных яблок было в корзине сначала?

Вариант 2

1. Решите задачу.

Одна фабрика сшила за день 120 одинаковых спортивных костюмов, а другая – 130 таких же костюмов. На все эти костюмы было израсходовано 750 м ткани. Сколько метров ткани израсходовала на эти костюмы каждая фабрика за один день?

2. Выполните вычисления столбиком:

$$297\ 658 + 587\ 349 \qquad 19\ 152 : 63$$

$$901\ 056 - 118\ 967 \qquad 8\ 409 \cdot 49$$

$$200\ 100 - 18\ 534 : 6 \cdot 57$$

3. Сравните:

$$71 \text{ т} \dots 710 \text{ ц}$$

$$150 \text{ мин} \dots 3 \text{ ч}$$

$$1 \text{ км } 614 \text{ м} \dots 3\ 641 \text{ м}$$

4. Начертите квадрат, периметр которого равен периметру прямоугольника со сторонами 9 см и 3 см. Найдите площадь прямоугольника и квадрата.

5. Решите задачу на логическое мышление.

В вазе лежали яблоки. В эту вазу положили 11 груш. После того как из вазы взяли половину всех фруктов, в ней осталось 16 фруктов. Сколько яблок было в вазе сначала?

Критерии оценивания контрольных работ по предмету «Математика»

Контрольная работа.

Работа, состоящая из примеров:

- Оценка «5» – работа без ошибок.
- Оценка «4» – 1 грубая и 1–2 негрубые ошибки.
- Оценка «3» – 2–3 грубые и 1–2 негрубые ошибки или 3 и более негрубых ошибки.
- Оценка «2» – 4 и более грубых ошибок.

Работа, состоящая из задач:

- Оценка «5» ставится за работу без ошибок.
- Оценка «4» – 1–2 негрубых ошибки.
- Оценка «3» – 1 грубая и 3–4 негрубые ошибки.
- Оценка «2» – 2 и более грубых ошибки.

Комбинированная работа (1 задача, примеры и задание другого вида).

- Оценка "5" ставится: вся работа выполнена безошибочно и нет исправлений;
- Оценка "4" ставится: допущены 1-2 вычислительные ошибки.
- Оценка "3" ставится: допущены ошибки в ходе решения задачи при правильном выполнении всех остальных заданий или допущены 3-4 вычислительные ошибки, при этом ход решения задачи должен быть верным.
- Оценка "2" ставится: допущены ошибки в ходе решения задачи и хотя бы одна вычислительная ошибка или при решении задачи и примеров допущено более 5 вычислительных ошибок.

Комбинированная работа, диагностическая работа.

- Оценка "5" ставится за безошибочное выполнение всех заданий, допускается 1 ошибка и исправления. Уровень высокий: 90% -100%.
- Оценка "4" ставится, если ученик безошибочно выполнил не менее 3/4 заданий. Уровень выше среднего: 65%- 89%.
- Оценка "3" ставится, если ученик правильно выполнил не менее 1/2 заданий. Уровень средний: 51% - 64%.
- Оценка "2" ставится: если ученик не справился с большинством заданий.
- Низкий уровень: менее 50

Грубые ошибки:

1. Вычислительные ошибки в примерах и задачах.
2. Ошибки на незнание порядка выполнения арифметических действий.

3. Неправильное решение задачи (пропуск действия, неправильный выбор действий, лишние действия).

4. Не решённая до конца задача или пример.

5. Невыполненное задание.

6. Ошибки при выполнении чертежа.

Негрубые ошибки:

1. Неверно сформулированный ответ задачи.

2. Неправильное списывание данных (чисел, знаков).

3. Недоведенные до конца преобразования.

4. Нерациональный прием вычислений.

5. Неправильно поставленный вопрос к действию при решении задачи.

За грамматические ошибки, допущенные в работе, оценка по математике не снижается.

За неряшливо оформленную работу оценка по математике может быть снижена на 1 балл, но не ниже «3», и не в контрольной итоговой работе.

**Фонд оценочных средств для промежуточной аттестации обучающихся
по учебному предмету «Окружающий мир»
(типовой вариант)
(2-4 классы)**

Обязательная часть учебного плана.

Предметная область: Обществознание и естествознание «Окружающий мир»

¹ Данный вариант фонда оценочных средств является типовым для учителя-предметника, ежегодно на основании приказа директора школы в ООП НОО вносятся изменения в форме дополнения.

2 класс

Входной контроль.

Контрольное тестирование.

Вариант 1.

Часть 1

1. Напиши, как тебя зовут:

Фамилия _____ имя _____
отчество _____

2. Дата моего рождения:

число _____ месяц _____ год _____

3. Я проживаю по адресу: улица _____
дом № _____ квартира № _____

4. Страна, в которой ты живёшь, называется

5. Столица твоей страны

6. Город, в котором ты

живёшь _____

7. В моём городе течёт река (если есть)

_____.

Часть 2

8. В какой строке перечислены символы России?

1) гимн, граница, флаг

2) герб, флаг, гимн

3) национальность, язык, гимн, флаг

9. Что такое природа?

1) всё, что окружает человека

2) все живые существа

3) всё, что окружает человека и не сделано его руками

4) всё, что сделано руками человека

10. Что относится к неживой природе?

- 1) куст 2) ручей 3) гриб 4) рак

11. Что относится к живой природе?

- 1) вулкан 2) сосулька 3) дуб 4) звезда

12. Как по-другому называют понятия: **заморозки, молния, увядание растений**?

- 1) климат 2) неживая природа
3) природные явления 4) деятельность человека

13. Что не относится к явлениям природы?

- 1) буря 2) полив растений
3) ледостав 4) осадки

14. Что относится к явлениям неживой природы?

- 1) цветение 2) рождение
3) дыхание 4) восход солнца

15. Как называется наука о погоде?

- 1) метеорология 2) экология 3) биология 4) физика

16. Какие птицы не улетают на юг?

- 1) зяблики 2) дятлы 3) гуси 4) чайки

17. Какое место занимает в комнате воздух ?

- 1) потолок 2) пол 3) у окна 4) всю комнату

18. Что такое ветер?

- 1) движение воздуха 2) похолодание 3) движение туч 4) сжатие воздуха

19. Какого цвета воздух?

- 1) белого 2) голубого 3) он бесцветный 4) серого

20. Самое опасное для здоровья загрязнение воды происходит:

- 1) из-за остатков пищи, попавших в воду
- 2) из-за вредных веществ, выбрасываемых заводами и фабриками
- 3) из-за попадания песка и глины
- 4) из-за дождей

21. Как очищается использованная вода?

- 1) в трубах
- 2) в земле
- 3) на очистных сооружениях
- 4) очищается сама

22. Почему на Земле сменяется день и ночь?

- 1) Земля имеет шарообразную форму
- 2) Земля вращается вокруг Солнца
- 3) Земля вращается вокруг своей оси
- 4) Солнце вращается вокруг Земли

23. Что относится к общественным учреждениям?

- 1) улица
- 2) город
- 3) жилой дом
- 4) библиотека

11. Что относится к живой природе?

- 1) вулкан 2) сосулька 3) солнце 4) гриб

12. Как по- другому можно назвать понятия: листопад, молния, перелёт птиц?

- 1) климат 2) природные явления
3) неживая природа 4) деятельность человека

13. Что не относится к явлениям природы?

- 1) заморозки 2) полив растений
3) радуга 4) осадки

14. Как называется наука о погоде?

- 1) метеорология 2) экология 3) зоология 4) астрономия

15. Какие птицы не улетают на юг?

- 1) грачи 2) синицы 3) гуси 4) чайки

16. Какое место занимает в комнате воздух ?

- 1) около кровати 2) пол 3) у окна 4) всю комнату

17. Что такое ветер?

- 1) движение воздуха 2) похолодание 3) движение туч 4) сжатие воздуха

18. Какого цвета воздух?

- 1) белого 2) голубого 3) он бесцветный 4) серого

19. Как очищается использованная вода?

- 1) в земле 2) в трубах 3) очищается сама 4) на очистных сооружениях

20. Что относится к явлениям неживой природы?

- 1) цветение 2) рождение
3) дыхание 4) восход солнца

21. Самое опасное для здоровья загрязнение воды происходит:

- 1) из-за остатков пищи, попавших в воду
- 2) из-за вредных веществ, выбрасываемых заводами и фабриками
- 3) из-за попадания песка и глины
- 4) из-за дождей

22. Укажи причину изменения температуры воздуха в течение года

- 1) Вращение Земли вокруг своей оси
- 2) Изменение высоты Солнца над горизонтом
- 3) Изменение вида осадков
- 4) Вращение Земли вокруг Солнца

23. Определи вещество по его свойствам.

Прозрачный, бесцветный, твёрдый, холодный на ощупь, тает в тепле – это

_____ .

Промежуточная аттестация.

Тестирование.


1 вариант

1. Распредели слова в две группы: дождь, яблоня, тетрадь, белка, град, стол, листопад, буря.

Тела

Явления

2. Подпиши названия облаков.



3. Что такое звезда?

1) созвездие 2) пылающий шар, 3) маленькое солнце.

4. Какая звезда ближайшая к Земле?

1) Луна 2) Солнце 3) Сириус 4) Марс.

5. Как называется самая высокая часть холма или горы?

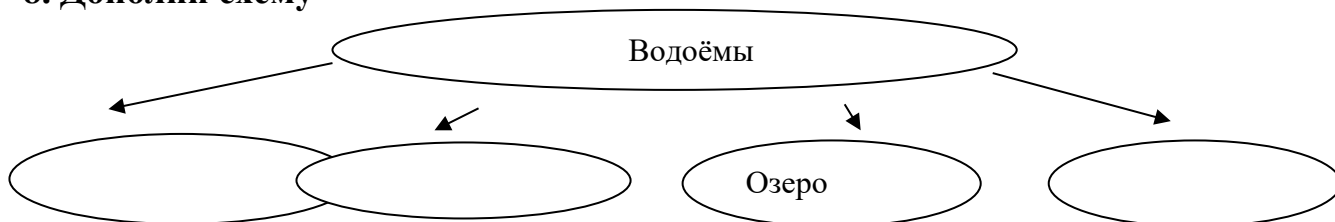
1) подошва 2) вершина 3) склон 4) не имеет названия

6. Ровные или почти ровные участки земной поверхности — что это?

1) холмы 2) горные хребты 3) равнины.

7. Исток — это

8. Дополни схему



9. Символы государства -

10. Столица нашего государства -

11. Какой транспорт не является наземным?

1)Электричка 2) троллейбус 3)теплоход

12. В каком музее находятся чучела животных?

1) в историческом музее 2)в зоологическом музее 3)в краеведческом музее

13. К каким учреждениям относят музей, театр, выставочный зал?

1) образования 2) культуры 3) спортивным

2 вариант

1. Распредели слова в две группы: ливень, дуб, карандаш, синица, снегопад, крот, цунами, снежинка.

Тела

Явления

2. Подпиши названия облаков.



3. Горячими космическими телами являются....

- 1) планеты 2) звёзды 3) спутники планет.

4. Оборот вокруг Солнца Земля совершает за....

- 1) месяц 2) полгода 3) год

5. Части холма — это :

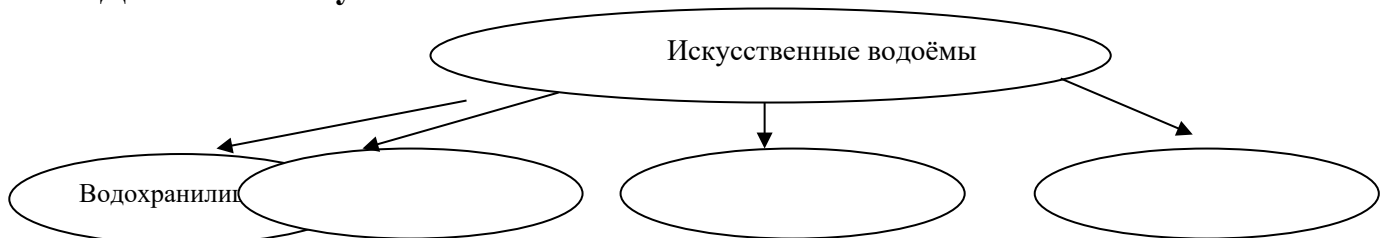
- а) подошва, склон, вершина б) стелька, склон, вершина в) каблук, склон, верхушка.

6. Углубление, по которому течёт река:

- а) русло б) исток в) приток.

7. Устье – это

8. Дополни схему.



9. Так называется наше Отечество

10. Основной закон государства -

11. Какой транспорт не является пассажирским?

1) мусоровоз 2) метро 3) электричка

12. Какой музей рассказывает об истории города, края, области?

1)художественный музей 2) палеонтологический музей 3) краеведческий музей

13. Что не относится к учреждениям культуры?

1)университет 2)музей 3)театр

3 класс.

Входной контроль.

Тестирование.

1. Относятся к естественным телам:

- А) яблоко, луна, дом, дерево, рыба;
- Б) камень, игрушка, медведь, солнце, река;
- В) звезда, гора, птица, куст, озеро, заяц.

2. Отметьте знаком «+» состояние воды:

	жидкое	твёрдое	газообразное
лёд			
туман			
снежинка			
сосулька			
дождь			
Вода в реке			

1. Какие утверждения о свойствах воздуха верны?

- А) прозрачный;
- Б) белый;
- В) не имеет запаха;
- Г) при нагревании сжимается.

4. Учёные-ботаники делят царство растений на группы:

- А) водоросли, мхи, папоротники, хвойные растения, лиственные растения;
- Б) водоросли, мхи, папоротники, хвойные растения, цветковые растения;
- В) хвойные растения, цветковые растения, кусты, травы, водоросли.

5. В состав почвы входят:

- А) воздух, вода, перегной, минеральные соли;
- Б) воздух, вода, песок, глина, минеральные соли;
- В) воздух, вода, песок, глина, перегной, минеральные соли;

6. Растение поглощает углекислый газ, воду и получает из них сахар и крахмал.

При этом в воздух выделяется кислород. Это процесс:

- А) размножения;
- Б) питания;
- В) дыхания.

7. Дополните цепи питания:

- А) осина → ? → волк;
- Б) ? → мышь → сова;

В) водоросли →рыба → ?.

Промежуточная аттестация.

Тестирование.

1. Какие древние русские города входят в Золотое кольцо России? Перечисли:

2. С какими странами Россия имеет морские границы? _____ и _____.

3. Подчеркни названия Скандинавских стран:

Италия	Дания	Финляндия	Швеция
Норвегия	Великобритания	Франция	Украина

4. Соедини названия стран и её столицей:

Франция	Киев
Великобритания	Париж
Германия	Лондон
Украина	Берлин

5. Напиши названия стран, где находятся эти знаменитые места:

мавзолей Тадж - Махал
_____;

статуя Свободы
_____;

Колизей _____;

Эйфелева башня
_____;

пирамиды _____;

часы Биг-Бен _____.

4 класс.

Входной контроль.

Тестирование.

1.вариант.

Ф.И. _____

1. Что такое астрономия?
 - А) наука о Вселенной
 - Б) наука о живой природе
 - В) наука о погоде
2. Солнце – это:
 - А) планета
 - Б) спутник Земли
 - В) звезда
3. Уменьшенное изображение земной поверхности на плоскости с помощью условных знаков это:
 - А) глобус
 - Б) географическая карта
 - В) атлас
4. История – это:
 - А) одна из наук о Земле
 - Б) наука о прошлом людей
 - В) наука о Вселенной
5. В России принято летоисчисление:
 - А) от года основания Москвы
 - Б) от Рождества Христова
 - В) От начала правления Петра Первого
6. Самые высокие горы России:
 - А) Кавквзские
 - Б) Уральские
 - В) вулканы Камчатки
7. Самое глубокое озеро России:
 - А) Каспийское
 - Б) Онежское
 - В) Байкал.
8. Запиши известные тебе небесные тела.

9. Каких животных, внесённых в Красную книгу ты запомнил?

10. Какие экологические проблемы тебе известны?

2 вариант

Ф.И. _____

1. Солнце и движущиеся вокруг него небесные тела составляют...

- А) Вселенную
- Б) Солнечную систему
- В) космическое пространство

2. Луна – это:

- А) планета
- Б) спутник Земли
- В) звезда

3. География – это:

- А) наука о живой природе
- Б) наука о веществах
- В) одна из наук о Земле

4. Археология – это:

- А) одна из наук – помощниц истории
- Б) наука о земле
- В) наука о Вселенной

5. Летоисчисление от Рождества Христова ввёл на Руси:

- А) Дмитрий Донской
- Б) Иван Грозный
- В) Петр Первый

6. Горы которые разделяют Европу и Азию:

- А) Кавказские
- Б) Уральские
- В) вулканы Камчатки

7. Озеро, которое называют морем:

- А) Каспийское
- Б) Онежское
- В) Байкал.

8. Назови планеты солнечной системы.

9. Какие растения, внесённые в Красную книгу ты запомнил?

10. Назови памятники Всемирного наследия.

Промежуточная аттестация.

Тестирование .

Вариант 1

1. Выбери верное утверждение.

- 1) Вокруг Земли вращаются восемь планет. 3) Вокруг Солнца вращаются восемь планет.
- 2) Вокруг Солнца вращаются девять планет. 4) Солнце вращается вокруг Земли.

2. Где самый богатый растительный и животный мир?

- 1) в полярных поясах 3) в умеренных поясах
- 2) на Северном полюсе 4) в тропиках

3. Что мы называем историческим источником?

- 1) учебник по истории
- 2) статьи в газетах, посвящённые историческим событиям
- 3) всё то, что может рассказать нам о прошлом
- 4) исторические книги

4. Какая природная зона описана в тексте?

Лето тёплое, но зима суровая, преобладают хвойные растения, так как они менее требовательны к теплу. Животный мир разнообразен.

- 1) тундра 2) тайга 3) пустыня 4) арктическая пустыня

5. Укажи самую низкую равнину России.

- 1) Западно-Сибирская 3) Среднесибирское плоскогорье
- 2) Приволжская 4) Восточно-Европейская

6. Какое озеро включено в Список объектов Всемирного природного наследия?

- 1) Ладожское 2) Байкал 3) Каспийское 4) Онежское

7. Что должны делать люди для охраны водоёмов?

- 1) не купаться в реках 3) уничтожать обитателей водоёмов
- 2) поливать огороды водой из рек и озёр 4) расчищать берега водоёмов от мусора

8. Укажи основное свойство торфа.

- 1) прочность 2) твёрдость 3) пластичность 4) горючесть

9. Что является названием отрасли животноводства?

- 1) цветоводство 2) металлургия 3) свиноводство 4) полеводство

10. Какая эпоха длилась с 1500 по 1900 год?

- 1) эпоха Древнего мира 3) эпоха Нового времени
2) эпоха Средних веков 4) эпоха Новейшего времени

11. Какое растение не является луговым?

- 1) тысячелистник 2) мятлик 3) тимофеевка 4) тростник

12. Какое насекомое поедает листья картофеля?

- 1) колорадский жук 2) жужелица 3) божья коровка 4) тля

13. Кто организовал первую в России химическую лабораторию?

- 1) Пётр Первый 2) М.В. Ломоносов
3) Екатерина Вторая 4) Иван Третий

14. Какое название получило решающее сражение Отечественной войны 1812 года?

- 1) Куликовская битва 3) Ледовое побоище
2) Бородинская битва 4) Ордынское сражение

15. Укажи объекты Всемирного природного наследия России.

- 1) водопад Виктория 2) Большой барьерный риф 3) Алтай 4) озеро Байкал

16. Какие полезные ископаемые используют для получения топлива?

- 1) нефть 2) известняк 3) каменный уголь 4) природный газ

17. Назови государственные праздники России.

- 1) День России 3) День Конституции
2) День Государственного флага Российской Федерации 4) День милиции

Вариант 2

1. Какое утверждение верно?

- 1) В Солнечную систему входят Земля и Солнце
- 2) В Солнечную систему входят Земля, Солнце и Луна.
- 3) В Солнечную систему входят Солнце и все вращающиеся вокруг него тела.
- 4) В Солнечную систему входят Солнце и крупные планеты.

2. Где самый бедный растительный и животный мир?

- 1) в южном тропическом поясе
- 2) в северном тропическом поясе
- 3) в полярных поясах
- 4) в умеренных поясах

3. Какая наука узнаёт о прошлом, изучая древние предметы, сооружения?

- 1) археология
- 2) история
- 3) астрономия
- 4) география

4. Какая природная зона описана в тексте?

Солнце никогда не поднимается высоко над горизонтом, из растительности на камнях встречаются лишайники, животные питаются рыбой.

- 1) арктическая пустыня
- 2) тундра
- 3) степь
- 4) тайга

5. Что называют Каменным поясом земли Русской?

- 1) Уральские горы
- 2) Кавказские горы
- 3) Алтай
- 4) Русскую равнину

6. Какое озеро России из-за огромных размеров часто называют морем?

- 1) Ладожское
- 2) Онежское
- 3) Каспийское
- 4) Байкал

7. Какое утверждение неверно?

- 1) Лес — защитник почвы.
- 2) Лесов так много, что вырубить их все невозможно
- 3) Лес очищает воздух
- 4) Лес защищает почву от разрушения.

8. Какие почвы распространены в нашей стране?

- 1) чернозёмы
- 2) луговые
- 3) болотные
- 4) подзолистые

9. Какое полезное ископаемое используют для изготовления посуды?

- 1) глину
- 2) торф
- 3) известняк
- 4) гранит

10. В какую эпоху возникли первые цивилизации?

- 1) в первобытную эпоху
- 2) в эпоху Древнего мира
- 3) в эпоху Средних веков
- 4) в эпоху Нового времени

11. Какая птица помогает людям защищать урожай от гусениц яблонной плодожорки?

- 1) сова
- 2) скворец
- 3) канюк
- 4) пустельга

12. Из чего получают перловую крупу?

- 1) из ячменя 2) из кукурузы 3) из ржи 4) из гречихи

13. Кого называют продолжателем дел Петра Первого?

- 1) Ивана Грозного 3) Александра Второго
2) Екатерину Вторую 4) Николая Второго

14. Укажи порядок расположения полос на Государственном флаге Российской Федерации

- 1) красная, белая, синяя 3) белая, синяя, красная
2) синяя, красная, белая 4) белая, красная, синяя

15. Назови объекты Всемирного культурного наследия России.

- 1) Акрополь 3) исторический центр Санкт-Петербурга
2) Московский Кремль 4) Кижи

16. Какие права есть у гражданина Российской Федерации?

- 1) на образование 2) на труд 3) на отдых 4) на разрушение памятников культуры

17. Какие изобретения относятся к эпохе Новейшего времени?

- 1) фотография 2) телевидение 3) электричество 4) холодильник

Критерии оценивания

тестовых работ по предмету «Окружающий мир» обучающихся 2-4 классов

Для текущего и промежуточного контроля используются письменные проверочные работы, не требующие развернутого ответа с большой затратой времени и различные проверочные практические работы.

Целесообразно при проведении итогового письменного контроля использовать тестовые задания.

Тестовые работы должны включать задания, в которых ученик должен продемонстрировать разные виды учебных умений. Для определения фактических знаний по предмету необходимы тесты на выбор ответа, поиск ошибки, продолжение или исправление высказывания. Для проверки умений сравнивать, классифицировать, выделять существенные признаки, делать выводы используются графические задания: заполнение таблиц, дополнение и составление схем, рисунки.

Тесты с открытым ответом позволяют проверить умения использовать приобретенные знания и оформлять письменный ответ.

В письменных проверочных работах по предмету орфографические ошибки не учитываются..

Каждое верно выполненное задание уровня А в 1 балл, В- в 2 балла, С- в 3 балла

«5» - 80-100%

«4» - 60-80 %

«3» - 40-60%

«2» - меньше 40%

**Фонд оценочных средств для промежуточной аттестации обучающихся
по учебному предмету «Основы религиозных культур и светской этики»**

**(Модуль: «Основы светской этики»
(типовой вариант)**

(4 класс)

Обязательная часть учебного плана.

Предметная область: Основы религиозных культур и светской этики.

¹ Данный вариант фонда оценочных средств является типовым для учителя-предметника, ежегодно на основании приказа директора школы в ООП НОО вносятся изменения в форме дополнения.

Входной контроль.

Контрольный тест .

1. Россия, наша Родина – это...

- А) планета Земля
- Б) часть планеты Земля
- В) Российская Федерация

2. На каком рисунке изображен Герб Российской Федерации?



3. Кто такие предки?

- А) люди, от которых мы произошли
- Б) родители, которые придут на помощь
- В) великие люди

4. Что такое этика?

- А) наука о добре и зле;
- Б) наука, которая рассматривает поступки и отношения между людьми с точки зрения представлений о добре и зле;
- В) обычаи и традиции.

5. Что такое этикет?

- А) повседневное уважение и открытая доброжелательность к людям
- Б) установленный, принятый порядок поведения
- В) оказание бескорыстной помощи другим людям

6. Мораль – это ...

- А) культурные традиции;
- Б) верование людей;
- В) система норм и ценностей, регулирующих поведение людей.

7. Вежливость – это...

- А) повседневное уважение и открытая доброжелательность к людям
- Б) черта характера, которая говорит о том, что человек отвечает за собственный свободный выбор;
- В) оказание бескорыстной помощи другим людям

8. Уважение – это...

- А) способность человека определять своё поведение с учетом законов природы и общества.
- Б) почтительное отношение к людям, основанное на признании их достоинств
- В) установленный, принятый порядок поведения

9. Добро создается из:

- А) добрых чувств и мыслей
- Б) из благодарности за добрые дела
- В) добрых дел

10. Щедрость – это...

- А) оказание бескорыстной помощи другим людям, отсутствие скупости
- Б) почитание людей за их благородное происхождение и за богатство
- Б) способность человека определять своё поведение с учетом законов природы и общества.

Промежуточная аттестация.

Тестирование

I вариант.

1. **Почему нашу страну мы называет отечеством:**

а) это наш родной дом

б) наши отцы, деды и прадеды и их предки учились, работали и защищали свою землю

в) мы здесь учимся

2. **Дай толкование слову «Родина»**

- а) родная сторона
- б) любимая сторона
- в) великая страна

3. Духовный мир — это

- а) знания и информация из различных источников, которые мы видим
- б) знания и информация из различных источников, отношения между людьми
- в) вещи и предметы

4. Ответь на вопрос, ответ соедини с правильным ответом.

- 1) тот, кто хвалит сам себя. а) неблагодарный
- 2) тот, кто не умеет прощать? б) злопамятный
- 3) тот, кто не ценит чужую помощь? в) хвастливый

5. Закончить предложение.

Противоположность добра – это

6. Найди лишнее в определении понятия «моральный выбор» - это:

- а) выбор между разными способами поведения
- б) между нормами, которым следует человек
- в) между различными идеалами, к которым он стремится
- г) выбор дышать или не дышать
- д) выбор между добром и злом

7. Соотнеси понятие с их объяснением.

Дополнительная часть.

8. Приведи примеры традиций принятых в вашей семье_____

9. Восстанови слова детской песенки

..... крепкая не сломается,

Не расклеится от дождей и вьюг.

..... в беде не бросит,

Лишнего не спросит.

Потому что настоящий, верный

10. Как вы думаете, быть добрым сложно? Обоснуйте свой ответ.

II вариант

1. **Полное название нашей страны:**

- а) Москва
- б) Российская Федерация
- в) Россия

2. **Дай толкование слову «отечество»**

- а) страна наших пап, мам
- б) родная страна отцов и предков
- в) Россия

3. Материальный мир — это

- а) информация из книг, журналов, СМИ
- б) вещи, предметы, явления природы, которые нас окружают
- в) явления природы, которые нас окружают

4. Ответь на вопрос, ответ соедини с правильным ответом.

- 1. тот, кто ни с кем ничем не делится? а) лживый
- 2. тот, кто обманывает? б) гордый
- 3. тот, кто считает себя самым лучшим? в) жадный

5. Закончить предложение.

Нравственная ценность, которая относится к человеческой деятельности, образец поступков людей и отношений между ними -это.....

6. В человеке может проявляться красота духовная-невидимая, когда он выбирает добро, а не зло. Подумай и выбери, в каких поступках эта красота проявляется.

Если человек :

- а) - обижает младших,

б) - помогает старшим и больным

в) - просит прощения и прощает других

г) - благодарит людей за оказанное добро

д) - любит бездельничать

е) - _____

(свой ответ)

7. Соотнеси понятие с их объяснением.

Дополнительная часть.

8. Какая добродетель находится между двумя пороками?

а) расточительность-.....-скупость,

б) вредность-.....-угодничество,

в) безрассудная отвага-.....-трусость,

Слова для справок : дружелюбие , щедрость, мужество.

9. Приведи примеры традиций принятых в обществе _____

10. Как вы думаете, быть справедливым сложно? Обоснуйте свой ответ.

Оценка тестов.

Тестовая форма проверки позволяет существенно увеличить объем контролируемого материала по сравнению с традиционной контрольной работой (диктантом с грамматическим заданием) и тем самым создает предпосылки для повышения

информативности и объективности результатов. Тест включает задания средней трудности.

Проверка может проводиться как по всему тесту, так и отдельно по разделам. Выполненная работа оценивается отметками "зачет" или "незачет". Считается, что ученик обнаружил достаточную базовую подготовку ("зачет"), если он дал не менее 75% правильных ответов.

Один из вариантов оценивания:

- "высокий" - все предложенные задания выполнены правильно;
- "средний" - все задания с незначительными погрешностями;
- "низкий" - выполнены отдельные задания.

***Примечание:** Учащихся следует подготовить заранее к выполнению работы.*

Для этого надо выделить 10-15 минут в конце одного из предшествующих уроков.

Рекомендуется записать на доске 1-2 задания, аналогичные включенным в тест и выполнить их вместе с учащимися.

Базовый уровень 0 - 60%	60 - 77%	77 - 90%	90 - 100%
менее 17 баллов	18 - 22 балла	23 -26 баллов	27-30 баллов
"незачет"	"зачет"	"зачет"	"зачет"

**Фонд оценочных средств для промежуточной аттестации обучающихся
по учебному предмету «Изобразительное искусство»
(типовой вариант)
(2-4 классы)**

Обязательная часть учебного плана.
Предметная область: Искусство

¹ Данный вариант фонда оценочных средств является типовым для учителя-предметника, ежегодно на основании приказа директора школы в ООП НОО вносятся изменения в форме дополнения.

2 класс

Входной контроль.

Тестирование.

1. Назови инструменты художника.

- а) кисточка
- б) карандаш
- в) резинка
- г) матрешка
- д) бабочка

2. В каком порядке выполняется аппликация?

- а) вырезать
- б) разметить детали
- в) приклеить

3. Выбери инструменты для работы с бумагой

- а) ножницы
- б) игла
- в) карандаш
- г) нитки
- д) линейка

4. Как называются рисунки в детской книжке?

- а) красочные
- б) яркие
- в) иллюстрации
- г) картинки

5. Выбери инструменты для работы с пластилином

- а) стеки
- б) нитки
- в) тряпочки
- г) посуда с водой
- д) подкладная доска

Промежуточная аттестация.

Тестирование .

1. Какие краски, цвета называют теплыми, а какие – холодными?

(Укажи стрелками)

тёплые холодные

красный жёлтый голубой оранжевый синий фиолетовый зелёный

2. Какие жанры живописи ты

знаешь? _____

3. Натюрморт – это...

- а) изображение какой-либо местности, картин природы
- б) изображение человека или группы людей
- в) изображение предметов обихода, цветов, плодов

4. Как называется картина или узор из цветного стекла?

- а) мозаика
- б) витраж
- в) коллаж
- г) аппликация

5. Очертание, контур внешней формы предмета – это...

- а) композиция
- б) силуэт
- в) тень

6. Кто такой живописец?

- а) художник
- б) человек, умеющий писать
- в) писатель, пишущий живые и веселые рассказы
- г) очень быстро и много рисующий человек

7. Украшение, узор и сочетание геометрических растительных и животных элементов, ритмически повторяющихся, - это:

- а) узор
- б) картина
- в) орнамент

8. К какому жанру относится изображение птиц и животных?

- а) пейзаж
- б) натюрморт
- в) анималистический

9. Соедини карточки с элементами узоров народных промыслов и их названия:

ХОХЛОМА ГЖЕЛЬ ГОРОДЕЦ ДЫМКА



10. Расставьте цифры от 1 до 4, определив последовательность рисования кленового листа:



11. Художники-анималисты изображают на картинах:

- а) природу
- б) портреты людей
- в) животных

г) сказочные сюжеты

12. Назовите знаменитых художников-сказочников.

13. Соедини фамилии художников и названия их картин:

И.И. Шишкин «Золотая осень»

В.М. Васнецов «Корабельная роща»

И.И. Левитан «Богатыри»

14. Рассмотрите репродукцию картины И. И. Левитана «Золотая осень».

Вставь пропущенное слово или словосочетание.



Левитан «Золотая осень»

Картина вызывает настроение _____ (умиротворенное, спокойное; грустное, печальное), потому что художник изобразил _____ (осень, весну) которая окрасила природу в свои _____ (осенние, весенние) цвета

_____ (желтый, золотистый, оранжевый; голубой, фиолетовый, зеленый). Они такие _____ (яркие, темные), что сначала, кажется: вся картина написана разными тонами _____ (желтого, голубого) цвета. Это _____ (золотая, холодная) осень. Она очаровывает своей красотой.

3 класс

Входной контроль.

Тестирование.

1. Что такое пейзаж?

- а) изображение животных
- б) изображение природы
- в) изображение человека
- г) изображение цветов

2. Какие бывают пейзажи?

- а) морские
- б) деревенские
- в) лесные
- г) музыкальные

3. Из чего строили дома в старину?

- а) из глины
- б) соломы
- в) из дерева
- г) из кирпича

4. Что стояло на самом видном месте в деревне?

- а) изба
- б) амбар
- в) церковь
- г) баня

5. От какого слова произошло слово «город»?

- а) огород
- б) городить
- в) отгораживаться
- г) горожане

6. Где строили древние города?

- а) на высоких холмах
- б) в глухих лесах
- в) в широком поле
- г) на островах

7. Какая страна называется «Страной восходящего солнца»?

- а) Китай
- б) Индия
- в) Россия
- г) Япония

8. Как называется Японский храм?

- а) собор
- б) церковь
- в) пагода
- г) минарет

9. Отметь названия жилищ народов Севера.

- а) иглу
- б) хата
- в) яранга
- г) дом
- д) чум
- е) изба

10. Отметь черты присущие готическому собору:

- а) высота
- б) полумрак
- в) витраж
- г) арки

11. Какая великая тема объединяет художников всех времен и народов?

- а) материнство
- б) отцовство
- в) природа

12. Когда к человеку приходит мудрость души?

- а) в детстве
- б) в юношестве
- в) в старости

13. В чём заключается самая высокая цель искусства?

- а) помочь людям понять друг друга, почувствовать чужие радости и страдания
- б) передать красоту природы во всём её многообразии
- в) показать историю разных народов

14. Какие цвета бывают в картинах, на которых изображены праздники?

- а) холодные

б) красочные

15. Вспомни знакомые тебе народные праздники:

Промежуточная аттестация.

Тестирование .

1. Так называли архитекторов в Древней Руси.

- а) зодчий
- б) ваятель
- в) офеня
- г) коробейник

2. Какой город Древней Руси называют матерью русских городов?

- а) Новгород
- б) Киев
- в) Владимир
- г) Смоленск

3. Один из известнейших музеев России, возникший как частное собрание императрицы Екатерины II в 1764 году.

- а) Кунсткамера
- б) Третьяковская галерея
- в) Эрмитаж
- г) Русский музей

4. Русский ученый, возродивший искусство мозаики.

- а) Д.И. Виноградов
- б) М.В. Ломоносов
- в) В.М. Севергин
- г) А.К. Нартов

5. Кто является автором иконы «Троица», написанной для иконостаса Троицкого собора?

- а) Д. Черный
- б) А. Рублев
- в) Ф. Грек
- г) Прохор из Городца

6. Основатель русского книгоиздания, первопечатник.

- а) Ф. Скорина

- б) И. Федоров
- в) И. Гуттенберг
- г) Я. Мстиславец

7. Кто из русских художников написал картину «Юный живописец» и, по сути дела, обессмертил свое имя?

- а) М. Шибанов
- б) И. Фирсов
- в) И. Ерменев
- г) И. Танков

8. Кто из русских художников-классицистов написал картины «Зевс и Фетида», «Владимир и Рогнеда», «Прощание Гектора с Андромахой»?

- а) Г.И. Угрюмов
- б) Д.Г. Левицкий
- в) И.Н. Никитин
- г) А.П. Лосенко

9. Рассматривая книгу «Свежий кавалер», в которой просматривается дерзкая насмешка не только над тупым и чванливым чиновником, но и над академическими традициями, великий К.П. Брюлов сказал автору: «Поздравляю вас, вы победили меня». К кому относились эти слова?

- а) к В.В. Пукиреву
- б) к А.А. Агину
- в) к П.А. Федотову
- г) к Г.Г. Гагарину

10. В каком жанре работали художники: И. Шишкин, И. Левитан, А. Саврасов, И. Айвазовский?

- а) в жанре портрет
- б) в жанре натюрморт
- в) в жанре пейзаж
- г) в историческом жанре

11. Назовите одного из наиболее популярных пейзажистов первой трети XIX в.; картины свои, пользовавшиеся наибольшим успехом, он повторял несколько раз из-за большого спроса у покупателей из разных стран.

- а) А.Г. Венецианов
- б) С.Ф. Щедрин
- в) М.М. Иванов
- г) Е.Ф. Крендовский

12. Назовите известного русского художника, автора картины «Девочка с персиками».

- а) В. Серов
- б) В. Перов
- в) И. Крамской
- г) И. Репин

13. Для каких целей возводили Архангельский собор Московского Кремля?

- а) как усыпальницу московских государей
- б) как собор с трапезными палатами
- в) как собор для заседаний московского правительства
- г) как усыпальницу для верховного духовенства

14. В память о каком историческом событии был возведен русскими зодчими Бармой и Постником собор Покрова на Рву (иначе храм Василия Блаженного) в Москве?

- а) в память о взятии Астрахани
- б) в честь покорения Сибири
- в) в память о взятии Казани
- г) в память о взятии Полоцка

15. Герой, убивающий змея, изображенный на московском гербе.

- а) Дмитрий Пожарский
- б) Георгий Победоносец
- в) Юрь Долгорукий
- г) Козьма Минин

16. Кто из знатных людей XVIII в. Был владельцем крупнейшего в России крепостного театра?

- а) Я.П. Шаховский
- б) Н.П. Шереметев
- в) И.И. Шувалов
- г) А.Д. Шишков

17. Кто из русских художников написал женский портрет, о котором спустя 200 лет восторженно высказался русский поэт Николай Заболоцкий: ...Ее глаза – как два тумана Полуулыбка, полуплач, Ее глаза – как два обмана, Покрытых мглою неудач... Чей это портрет? –

- а) Д.М. Матвеев
- б) И.Н. Никитин
- в) И.П. Аргунов
- г) Ф.С. Рокотов

18. Какого русского художника специалисты называют «антиподом» О.А. Кипренского, поскольку его картины

показывают свободного, раскованного человека, а по своей форме они всегда простые, «домашние» («Портрет сына», «А.С. Пушкин», «Кружевница»)?

- а) А.О. Орловского
- б) В.А. Тропинина
- в) Е.Ф. Крендовского
- г) Г.В. Сорока

19. Кто из русских живописцев был одним из основоположников бытового жанра русской живописи?

- а) Е.Ф. Крендовский
- б) А.Г. Венецианов
- в) Г.В. Сорока
- г) П.А. Федотов

20. На картине какого русского живописца мы видим, как происходило похищение Европы?

- а) С.В. Иванова
- б) В.А. Серова
- в) К.А. Коровина
- г) М.В. Нестерова

4 класс.

Входной контроль.

Тестирование.

1. Кто из этих художников известен как пейзажист?

а) И. Шишкин б) И. Левитан в) Сальвадор Дали г) В. Кандинский

2. Как называется произведение художника, посвященное изображению человека или группы людей?

а) гравюра б) пейзаж в) натюрморт г) портрет

3. Как называют изображение лица человека, обращенное к зрителю?

а) в фас б) в профиль в) в три четверти

4. Какой народный промысел сложился в 18-19 веке в Городце?

а) резьба б) ковка в) глиняная игрушка г) роспись

5. Какие фигуры являются традиционными для городецкой росписи?

а) коня б) рыбы в) птицы г) человека

6. Какие из предложенных пар цветов называются контрастными?

а) оранжевый - синий б) красный - желтый в) зеленый - синий г) красный - розовый

Промежуточная аттестация.

Тестирование .

1. Какой вид искусства, из перечисленных ниже, относится к пространственной группе искусств?

- 1) живопись;
- 2) театр;
- 3) кино;
- 4) музыка;

2. Какие цвета нужно смешать, чтобы получить серый цвет?

- 1) жёлтый + синий =
- 2) красный + жёлтый =
- 3) белый + чёрный =
- 4) белый + красный =

3. Какой цвет получится, если к жёлтому цвету добавить красный?

- 1) серый;
- 2) оранжевый;
- 3) фиолетовый;
- 4) зелёный;

4. Кто написал картину « Утро в сосновом лесу»?



- 1) Левитан И. И.
- 2) Шишкин И. И.
- 3) Айвазовский И. К.
- 4) Васнецов В. М.

5. Какое, из перечисленных строений, не является старинной деревенской постройкой?

- 1) амбар;
- 2) баня;
- 3) сарай;
- 4) гараж;

А 6. Какой, из ниже перечисленных городов не является древнерусским городом?

- 1) Новгород;
- 2) Псков;
- 3) Суздаль;

4) Сафоново;

7. Декоративная композиция (в окне, двери) из цветного стекла или другого

материала пропускающего свет называется ----

1) мозаика;

2) фреска;

3) панно;

4) витраж;

8. Какую страну называют - « Страна восходящего солнца»?

1) Китай;

2) Япония;

3) Россия;

4) Франция;

9) Как называется национальная одежда японок?

1) сарафан;

2) халат;

3) сари;

4) кимоно;

10. Что лежит, согласно преданию, в основе названия классического греческого орнамента « меандр»?



1) название реки;

2) название горы;

3) название острова;

4) название озера;

11. В каком городе находится Государственная Третьяковская галерея?

1) г. Санкт – Петербург;

2) г. Москва;

3) г. Смоленск;

4) г. Сафоново;

12. Что не является элементом архитектуры?

1) арка;

2) свод;

3) купол;

4) икона;

Оценка тестов.

Тестовая форма проверки позволяет существенно увеличить объем контролируемого материала по сравнению с традиционной контрольной работой (диктантом с грамматическим заданием) и тем самым создает предпосылки для повышения информативности и объективности результатов. Тест включает задания средней трудности.

Проверка может проводиться как по всему тесту, так и отдельно по разделам. Выполненная работа оценивается отметками. Считается, что ученик обнаружил достаточную базовую подготовку, если он дал не менее 75% правильных ответов.

Один из вариантов оценивания:

- "высокий" - все предложенные задания выполнены правильно;
- "средний" - все задания с незначительными погрешностями;
- "низкий" - выполнены отдельные задания.

Примечание: Учащихся следует подготовить заранее к выполнению работы. Для этого надо выделить 10-15 минут в конце одного из предшествующих уроков. Рекомендуется записать на доске 1-2 задания, аналогичные включенным в тест и выполнить их вместе с учащимися.

Базовый уровень 0 - 60%	60 - 77%	77 - 90%	90 - 100%
"2"	"3"	"4"	"5"

**Фонд оценочных средств для промежуточной аттестации обучающихся
по учебному предмету «Музыка»
(типовой вариант)
(2-4 классы)**

Обязательная часть учебного плана.
Предметная область: Искусство

¹ Данный вариант фонда оценочных средств является типовым для учителя-предметника, ежегодно на основании приказа директора школы в ООП НОО вносятся изменения в форме дополнения.

2 класс

Входной контроль. Тестирование.

1. Приведи в соответствие (соедини стрелками):

Какие средства в своей работе использует:

- 1) Поэт а) краски
- 2) Художник б) звуки
- 3) Композитор в) слова

2. Если бы ты был композитором, какими звуками ты нарисовал бы картину утра:

- а) светлыми
- б) нежными
- в) сумрачными

3. Найди лишнее:

Образ защитника Отечества воспевается в таких произведениях – это...

- а) «О маме»
- б) «Богатырская симфония»
- в) песня «Солдатушки, бравы ребятушки»

4. Найди лишнее:

Духовые народные инструменты – это...

- а) Волынка
- б) Рожок
- в) Дудка
- г) Скрипка

5. Назовите композитора песни «Болтунья»:

- а) Д.Б. Кабалевский
- б) С.С. Прокофьев

6. Какие персонажи исполняют песенную, танцевальную и маршевую музыку?

- а) Золотые рыбки из балета «Конек Горбунок» 1) марш
- б) Колыбельная мамы Козы из оперы «Волк и семеро козлят» 2) танец

в) Семеро козлят из оперы «Волк и семеро козлят» 3) песня

Промежуточная аттестация Тестирование.

1. Назовите композитора симфонической сказки «Петя и волк»:

- а) М.П. Мусоргский
- б) С.С. Прокофьев
- в) И.С. Бах
- г) Д.Б. Кабалевский

2. Приведите в соответствие:

В сказке «Петя и волк» за действующих героев исполняют музыкальные инструменты:

- а) Петя 1) фагот
- б) Птичка 2) кларнет
- в) Утка 3) валторны
- г) Кошка 4) флейта
- д) Дедушка 5) скрипки
- е) Волк 6) гобой

3. Что такое сюита?

- а) Большое произведение, которое состоит из нескольких частей
- б) Спектакль, в котором актеры только поют

4. Назовите композитора произведения «Картинки с выставки»

- а) П.И. Чайковский
- б) М.П. Мусоргский
- в) С.С. Прокофьев

5. Найди лишнее:

В произведение «Картинки с выставки» входит:

- а) «Балет невылупившихся птенцов»
- б) «Старый замок»

3 класс

Входной контроль.

Тестирование.

1. Оцените утверждение:

Романс – это музыкальное произведение, в котором более глубоко выражены чувства человека.

- а) верно
- б) неверно

2. Выберите наиболее точное определение:

Кантата – это...

- а) большое произведение, состоящее из нескольких частей.
- б) большое произведение, состоящее из нескольких частей, для хора, оркестра.
- в) произведение для хора и оркестра.

3. Назовите композитора, сочинившего кантату «Александр Невский»:

- а) П.И. Чайковский
- б) С.С. Прокофьев
- в) М.И. Глинка

4. Назовите композитора, сочинившего оперу «Иван Сусанин»:

- а) П.И. Чайковский
- б) С.С. Прокофьев
- в) М.И. Глинка

5. Назовите композитора, сочинившего «Детский альбом»:

- а) П.И. Чайковский
- б) С.С. Прокофьев
- в) М.И. Глинка
- г) М.П. Мусоргский

6. Приведите в соответствие:

- а) «С няней» 1) С.С. Прокофьев
- б) «Сказочка» 2) П.И. Чайковский
- в) «Нянина сказка» 3) М.П. Мусоргский

- б) Баян
- г) Римский-Корсаков

5. Найдите лишнее:

Произведения, которые воспевают образ матери.

- а) «Ave, Maria»
- б) «Богородице Дево, радуйся!»
- в) «Александр Невский»
- г) Икона «Богоматерь Владимирская»

**Промежуточная аттестация
Тестирование.**

1. Приведите в соответствие:

- 1) Концерт №1 для фортепиано с оркестром а) П.И. Чайковский
- 2) «Героическая» симфония б) Э. Григ
- 3) Сюита «Пер Гюнт» в) Л. Бетховен

2. Выберите наиболее точное определение:

Сюита – это ...

- а) большое музыкальное произведение
- б) большое музыкальное произведение, которое состоит из нескольких контрастных между собой частей
- в) большое музыкальное произведение, которое состоит из нескольких частей

3. Найди лишнее:

В произведение «Пер Гюнт» входят следующие части:

- а) «Утро»
- б) «В пещере горного короля»
- в) «Балет невылупившихся птенцов»
- г) «Танец Анитры»
- д) «Смерть Озе»

4. Найди лишнее:

Произведения Л. Бетховена – это...

- 1) «Лунная соната»
- 2) «Спящая красавица»
- 3) «Героическая симфония»

4 класс

Входной контроль. Тестирование.

1. Приведите в соответствие:

- а) народная музыка 1) «Концерт №3»
- б) профессиональная музыка 2) «Ты река ли, моя реченька»
- 3) «Солдатушки, бравы ребятушки»
- 4) Кантата «Александр Невский»

2. Приведите в соответствие:

- а) солдатская 1) «Ты река ли, моя реченька»
- б) хороводная 2) «Солдатушки, бравы ребятушки»
- в) игровая 3) «А мы просо сеяли»
- г) лирическая 4) «Милый мой хоровод»

3. Назовите композитора, которого называют музыкальным сказочником:

- а) П.И. Чайковский
- б) Н.А. Римский – Корсаков
- в) М.И. Глинка

4. Оцените утверждение:

Стихотворение «Осенняя пора» А.С. Пушкина и произведение «Осенняя песнь» П.И. Чайковского – это лирические произведения

- а) верно
- б) неверно

5. Приведите в соответствие:

- а) П.И. Чайковский 1) «Осенняя песнь»

- б) Н.А. Римский – Корсаков 2) «Венецианская ночь»
- в) М.И. Глинка 3) «Три чуда»

Промежуточная аттестация
Тестирование.

1. Какой праздник называют «Светлым праздником»?

- а) Троица
- б) Пасха
- в) Рождество Христово
- г) Масленица

2. Назовите произведение русского композитора, в котором передается звучание колокольного звона «Праздничный трезвон»

- а) С.В. Рахманинов «Светлый праздник»
- б) А.П. Бородин «Богатырская симфония»
- в) М.П. Мусоргский «Рассвет на Москве-реке»

3. Назовите народный праздник поклонения матушке-природе:

- а) Масленица
- б) Троица
- в) Пасха
- г) Ивана Купала

4. Выберите композитора, которого по-другому называют «музыкальным сказочником»

- а) П.И. Чайковский
- б) М.П. Мусоргский
- в) Н.А. Римский-Корсаков
- г) М.И. Глинка

5. Найди лишнее:

- Произведения Н.А. Римского-Корсакова – это...
- а) «Рассвет на Москве-реке»

- б) «В пещере горного короля»
- в) «Шехеразада»
- г) «Садко»
- д) «Снегурочка»
- е) «Сказка о царе Салтане»

6. Приведите в соответствие:

- 1) сюита для двух фортепиано «Светлый праздник» а) Н.А. Римский-Корсаков
- 2) сюита «Шехеразада» б) С.В. Рахманинов

Оценка тестов.

Тестовая форма проверки позволяет существенно увеличить объем контролируемого материала по сравнению с традиционной контрольной работой (диктантом с грамматическим заданием) и тем самым создает предпосылки для повышения информативности и объективности результатов. Тест включает задания средней трудности.

Проверка может проводиться как по всему тесту, так и отдельно по разделам. Выполненная работа оценивается отметками. Считается, что ученик обнаружил достаточную базовую подготовку, если он дал не менее 75% правильных ответов.

Один из вариантов оценивания:

- "высокий" - все предложенные задания выполнены правильно;
- "средний" - все задания с незначительными погрешностями;
- "низкий" - выполнены отдельные задания.

Примечание: Учащихся следует подготовить заранее к выполнению работы. Для этого надо выделить 10-15 минут в конце одного из предшествующих уроков. Рекомендуется записать на доске 1-2 задания, аналогичные включенным в тест и выполнить их вместе с учащимися.

Базовый уровень 0 - 60%	60 - 77%	77 - 90%	90 - 100%
"2"	"3"	"4"	"5"

**Фонд оценочных средств для промежуточной аттестации обучающихся
по учебному предмету «Труд (технология)»
(типовой вариант)
(2-4 классы)**

Обязательная часть учебного плана.
Предметная область: Труд (технология)

¹ Данный вариант фонда оценочных средств является типовым для учителя-предметника, ежегодно на основании приказа директора школы в ООП НОО вносятся изменения в форме дополнения.

2 класс

Входной контроль.

Тестирование .

1. Какой материал используется на уроках труда (технологии).

- А) Бумага, пластилин, природный материал
- Б) Доски, гвозди, кирпичи
- В) Железо, отвертки, секатор

2. Как правильно передавать ножницы.

- А) Лезвиями вперед
- Б) Кольцами вперед
- В) Можно кинуть

3. Без чего нельзя обойтись при работе с пластилином?

- А) Ножницы, клей
- Б) Нитки, иголка
- В) Стека, доска для пластилина

4. Что такое оригами?

- А) Искусство складывания фигурок из бумаги
- Б) Искусство вырезания фигурок из бумаги
- В) Обрывная мозаичная аппликация


5. Что используется при работе с бумагой?

- А) Стека
- Б) Иголки
- В) Ножницы

6. При помощи чего скрепляется бумага?

- а) кнопок
- б) пластилина
- в) клея

7. Обведи объёмные поделки из природного материала красным цветом, аппликацию из листьев – жёлтым, аппликацию из семян – зелёным.



- б)
- в)
- в) а)

8. Фигуры, какой формы легче всего вырезать?


A)



Б)




В)




9. Возьмите приложение и вырежьте детали пазла. Соберите пазл и приклейте его в рамку.



10. Нарисуйте, аппликацию, используя одну геометрическую фигуру.



Приложение 1.



Критерии оценивания

Максимальное количество баллов: 15 баллов вместе с дополнительной частью

Задания с 1 по 8 оцениваются по 1 баллу за каждый правильный ответ. Итого -8б

Дополнительная часть

9	1. Ученик аккуратно вырезал пазл – 1 балл, вырезал пазл с кривыми краями – 0 баллов 2. Правильно сложил и приклеил детали пазла – 2 балла, сложил пазл не правильно и приклеил – 1 балл 3. Приклеил пазл, но оставил белые просветы – 1 балл. 4. Все остальные случаи – 0 баллов.	3 балла
10	1. Ученик нарисовал аппликацию – 1 балл 2. Рисуя аппликацию, ученик использовал только одну любую геометрическую фигуру – 1 балл, в аппликации две и более геометрических фигуры – 0 баллов 3. Все остальные случаи – 0 баллов.	2 балла

Максимальное количество баллов за 9,10 задания - 5 баллов. Итого-13.

«5» - 13-11 б.

«4» - 10-8 б.

«3» - 8-6 б.

«2» - менее 6 баллов.

Промежуточная аттестация.

Тестирование.

Выберите правильный ответ.

1. Правила безопасности труда при работе режущими и колющими инструментами:

- а) ножницы подают кольцами вперёд;
- б) ножницы подают острыми концами;
- в) нужно иметь свои ножницы.

2. Правила безопасности труда и личной гигиены, если клей попал в глаза:

- а) быстро протираем глаза сухой салфеткой;
- б) промываем проточной водой;
- в) зажимаем глаза ладонью и держим так некоторое время.

3. Как можно размягчить пластилин?

- а) разогреть на батарее;
- б) разогреть на солнце;
- в) разогреть теплом своих рук.

4. Что можно сделать из соломы?

- а) накрыть крышу;
- б) сделать метлу;
- в) сделать поделку

5. Оригами – это искусство

- а) складывания бумажных фигурок;
- б) фигурок из пластилина;
- в) фигурок из глины

6. Подберите предложение, в котором описывается назначение техники, и соедините его стрелкой с соответствующим названием.

Техника	Назначение
папье-маше	создание объемных изделий из пластичных материалов
лепка	изготовление плоского изделия приёмом наклеивания деталей на основу
аппликация	оклеивание формы кусочками мягкой бумаги

7. Аппликация из цветной бумаги:

- а) детали склеиваются;
- б) детали сшиваются;
- в) детали сколачиваются гвоздями.

8. Швы для вышивания:

- а) «вперёд иголка»;
- б) «назад иголка»;
- г) «иголка в сторону».

9. Что обозначает данная линия? _____

- а) нанести клей
- б) вырезать;

в) согнуть;

10. Установи правильную последовательность выполнения изделия «Рыбки» в технике оригами (укажи цифрами):

- ___ а) Сложить форму заданной поделки по схеме.
___ б) Прочитать условную схему обозначения порядка работы.
___ в) Вырезать из бумаги квадрат.

11. Внеси необходимые изменения в порядок изготовления деталей из ткани в технике «аппликация». Определи порядок выполнения операций в нужной последовательности.

- ___ Вырезать деталь
___ Вырезать шаблон
___ Наложить шаблон на ткань, используя правило экономного расходования ткани
___ Обвести шаблон карандашом или мелом.

12. Установите соответствие:

Инструмент	Назначение инструмента
Циркуль	Вязание
Линейка	Шитье
Пяльцы	Построение окружности
Крючок	Измерение длины
Иголка	Вышивание

13. Интерьер – это...

- а) мебель, предметы;
б) внутренний мир дома, складывающийся из отдельных вещей;
в) расположение комнат.

14. Архитектура – это ...

- а) здания и сооружения, создающие материально организованную среду, необходимую людям для их жизни и деятельности;
б) искусство проектировать и строить сооружения;
в) всё выше перечисленное.

15. Что можно отнести к декоративному убранству?

- а) ковры, светильники, шторы;
б) необходимые в повседневной жизни вещи;
в) декоративные элементы, украшающие быт человека;
г) всё выше перечисленное.

16. Определи, какой материал понадобится каждому мастеру-ремесленнику для изготовления изделия

Гончар	ивовые ветки
Корзинщик	ткань
Портной	глина

17. Для здоровья необходимы:

- а) эстетические качества;
б) функциональные качества;
в) гигиенические качества.

17 заданий

Оценки:

«5» – 14-17 заданий.

«4» – 9-13 заданий.

«3» – 6-8 задания.

«2» – 1-5 задания.

3 класс.

Входной контроль.

Тестирование.

Вариант 1

Ф.И. _____

1. Для изготовления современной посуды не используют:

А – стекло В – бумагу

Б – глину Г – металл

2. Гончар – это:

А – мастер по изготовлению глиняной посуды

Б – мастер по изготовлению металлической посуды

В – мастер по изготовлению стеклянной посуды

3. Какие инструменты использует в работе пекарь?

А – скалка В – сито

Б – ножницы Г – миксер

4. Какие изделия готовят из теста?

А – каша В – коржик

Б – пирог Г – конфета

5. Символом какой страны является матрёшка?

А – Англия В – Германия

Б – Россия Г – Швеция

6. Как называется профессия человека, который ухаживает за лошадьми?

А – конюх В – тракторист

Б – пахарь Г – доярка

7. Кто такой рыболов?

А – тот, кто продаёт рыбу

Б – тот, кто чистит рыбу

В – тот, кто ловит рыбу

8. Чего не было в старинной русской избе?

А – печь В – телевизор

Б – кочерга Г – посуда

9. Какой гриб несъедобный?

А – подберёзовик В – желчный гриб

Б – груздь Г – рыжик

10. Какой инструмент не нужен для строительства дома?

А – рубанок В – пила

Б – молоток Г – грабли

Вариант 2

Ф.И. _____

1. Для изготовления современной посуды не используют:

А – фарфор В – бумагу

Б – глину Г – пластик

2. Плотник – это:

А – мастер по изготовлению деревянных изделий

Б – мастер по изготовлению металлических изделий

В – мастер по изготовлению стеклянной изделий

3. Какие инструменты использует в работе плотник?

А – пилу В – молоток

Б – топор Г – миксер

4. Какие изделия готовят из муки?

А – каша В – коржик

Б – пирог Г – конфета

5. Символом какой страны является самовар?

А – США В – Германия

Б – Россия Г – Япония

6. Как называется профессия человека, который доит коров?

А – конюх В – чабан

Б – доярка Г – кинолог

7. Кто такой печник?

А – тот, кто строит печи

Б – тот, кто печет печенье

В – тот, кто поёт песни

8. Чего не было в старинной русской избе?

А – печь В – компьютер

Б – кочерга Г – посуда

9. Какой гриб несъедобный?

А – подосиновик В – бледная поганка

Б – груздь Г – боровик

10. Какой инструмент не нужен для шитья?

А – игла В – наперсток

Б – ножницы Г – гвоздь

**Критерии оценивания
10 заданий**

Оценки:

«5» – 9,10 заданий.

«4» – 7,8 заданий.

«3» – 5,6 заданий.

«2» – 3,4 задания.

Промежуточная аттестация.

Тестирование.

Ф.И. _____

1. Какие из перечисленных инструментов опасные?

- А. линейка
- Б. ножницы
- В. игла
- Г. стека

2. Для производства пряжи используют шерсть?

- А. овец и баранов
- Б. медведя и рыси
- В. ламы и альпаки

3. Ткани растительного происхождения изготавливают из...

- А. луговых трав
- Б. хвой лиственницы и ели
- В. из льна и хлопка
- Г. из пуха тополя

4. Какой инструмент лишний?

- А. линейка
- Б. карандаш
- В. кисточка
- Г. циркуль

5. Что такое САШИКО?

- А. базовая форма оригами
- Б. вид японской вышивки
- В. материал для творчества

6. Какое утверждение неправильное?

- А. волокна хлопка используются для изготовления тканей.
- Б. мех медведя и россомахи используется для изготовления тканей.
- В. коконы тутового шелкопряда используются для изготовления тканей.

7. Какие утверждения верны?

- А. после работы пересчитай иголки в игольнице
- Б. чтобы подготовить листья к работе высуши их на подоконнике
- В. при выполнении аппликации вырезай детали по одной и сразу их наклеивай.
- Г. передавай ножницы кольцами вперед
- Д. работай с пластилином на подкладной доске.

8. Какие материалы и инструменты понадобятся для вышивания?

- А. пяльцы
- Б. ткань
- В. мулине
- Г. иголка
- Д. швейные булавки
- Е. стека

9. Закончи фразу «Мозаика - это...»

- А. изображение, составленное из кусочков бумаги или других материалов

Б. вид аппликации

В. игра

10. Оригами – это...

А. древний способ изготовления бумаги

Б. искусство складывания бумаги

В. город в Японии

11. Ткань, нитки и пряжа состоят из...

А. волокон

Б. ниток

В. ворсинок

12. Выбери названия базовых форм в оригами?

А. квадрат

Б. дом

В. блинчик

Г. крылья

Критерии оценивания

12 заданий

Оценки:

«5» – 9-12 заданий.

«4» – 5-8 заданий.

«3» – 2-4 задания.

«2» – 1-2 задания.

4 класс

Входной контроль .

Тестирование.

1. Закончите фразу: инструменты – это...
 - а) предметы, вещества, идущие на изготовление чего-либо
 - б) орудия для производства каких-нибудь работ

2. Выберите и подчеркните из предложенного списка инструменты.
Канцелярский нож, клей, ножницы, игла, ткань, нитки, линейка, бумага

3. Этот материал представляет собой искусственную невысыхающую массу, которую многократно используют в поделках. Состав его может быть разнообразным, но, как правило, в него входит воск и глина. Назовите этот материал. _____

4. Какое утверждение верно?
 - а) Материалы – это линейка, клей, треугольник.
 - б) Материалы – это бумага, нитки, пластилин.

5. Перед вами правило безопасной работы с одним из часто используемых в работе инструментов:
Этот инструмент нужно передавать своему товарищу, держа его за лезвие; во время работы с ним нельзя отвлекаться и размахивать им; на столе этот инструмент должен лежать с сомкнутыми лезвиями.
Назовите этот инструмент: _____

6. Из чего состоит компьютер? Выберите и подчеркните:
Монитор, розетка, клавиатура, наушники, системный блок, мышь, планшет

Промежуточная аттестация.

Тестирование.

1. Закончите фразу: инструменты – это...

- а) те предметы, вещества, идущие на изготовление чего-либо.
- б) орудия для производства каких-нибудь работ.

2. Выберите и подчеркните из предложенного списка инструменты.

Канцелярский нож, клей, ножницы, игла, ткань, нитки, линейка, бумага.

3. Этот материал представляет собой искусственную невысыхающую массу, которую многократно используют в поделках. Состав его может быть разнообразным, но, как правило, в него входит воск и глина. Назовите этот материал. _____

4.. Какое утверждение верно?

- а) Материалы – это линейка, клей, треугольник.
- б) Материалы – это бумага, нитки, пластилин.

а) Инструменты – это линейка, клей, треугольник.

б) Инструменты – это игла, ножницы, треугольник.

5. Перед вами правила безопасной работы с одним из часто используемых в работе инструментов:

– Этот инструмент нужно передавать своему товарищу, держа его за лезвие; во время работы с ним нельзя отвлекаться и размахивать им; на столе этот инструмент должен лежать с сомкнутыми лезвиями.

Назовите этот инструмент: _____

6. Из каких частей состоит компьютер?

7. Расставьте по порядку ваши действия по изготовлению чего-либо:

- _____ Составление чертежа
- _____ Соединение деталей, сборка
- _____ Идея, проект
- _____ Оформление, декор готового изделия
- _____ Изготовление деталей

8. Соедините линиями материал и изделие из него:

- | | |
|--------|---------|
| Шерсть | Сметана |
| Какао | Свитер |
| Нефть | Шоколад |
| Молоко | Бензин |

9. Интерьер – это...

- а) мебель, предметы;
- б) внутренний мир дома, складывающийся из отдельных вещей;
- в) расположение комнат.

10. Архитектура – это ...

- а) здания и сооружения, создающие материально организованную среду, необходимую людям для их жизни и деятельности;

- б) искусство проектировать и строить сооружения;
- в) всё выше перечисленное.

11. Что можно отнести к декоративному убранству?

- а) ковры, светильники, шторы;
- б) необходимые в повседневной жизни вещи;
- в) декоративные элементы, украшающие быт человека;
- г) всё выше перечисленное.

12. Оригами – это ...

- а) блюдо японской кухни;
- б) техника складывания из бумаги;
- в) японский национальный костюм.

Критерии оценивания

«5» - получают учащиеся, справившиеся с работой в объеме 80-100 %;

«4» - получают учащиеся, справившиеся с работой в объеме 60-80%;

«3» - получают учащиеся, справившиеся с работой в объеме 40-50 % ;

«2» - получают учащиеся, справившиеся с работой в объеме менее 40%

**Фонд оценочных средств для промежуточной аттестации обучающихся
по учебному предмету «Физическая культура»
(типовой вариант)
(2-4 классы)**

Обязательная часть учебного плана.

Предметная область: Физическая культура

¹ Данный вариант фонда оценочных средств является типовым для учителя-предметника, ежегодно на основании приказа директора школы в ООП НОО вносятся изменения в форме дополнения.

2 класс						
Легкая атлетика						
Контрольные упражнения (тест)	Мальчики			Девочки		
	Высокий	Средний	Низкий	Высокий	Средний	Низкий
Бег 30 м (сек)	5,4 и меньше	6,0-7,0	7,1 и больше	5,6 и меньше	6,2-7,2	7,3
Челночный бег 3*10м	9,1 и меньше	9,5-10,0	10,4	9,7 и меньше	10,1- 10,7	11,2
Бег 1000 метров		без	учёта	времени		
Прыжок в длину с места	165	125-145	110	155	125- 140	90
Метание малого мяча (м)	15	9-14	8	14	8-13	7

Гимнастика						
Прыжки со скакалкой за 1 мин.	50	40	30	80	35	20
Поднимание туловища из положения лёжа на спине за 30 сек.	19 и более	13-18	Менее 12 раз	19 и более	13-18	Менее 12 раз
Подтягивание в висе (раз)	4	2-3	1	-	-	-
Подтягивание в висе лёжа (раз)	-	-	-	14	6-10	3
Сгибание и разгибание рук в упоре лежа (кол-во раз)	11	8	6	9	5	4
Наклон вперёд из положения сидя (см)	7,5	3-5	1	11,5	5-8	2

Контрольные упражнения (тест)	Мальчики			Девочки		
	Высокий "5"	Средн ий	Низк ий	Высокий "5"	Средн ий	Низк ий
		"4"	"3"		"4"	"3"
Бег 30 м (сек)	5,1 и меньше	5,7-6,7	6,8 и больше	5,3 и меньше	6,0-6,9	7,0
Бег 60 м (сек)	10,5	11,6	12,0	11,0	12,3	12,9
Челночный бег 3*10м	8,8 и меньше	9,3-9,9	10,2	9,3 и меньше	10,3-9,7	10,8
Бег 1000 метров		без	учёта	времени		
Прыжок в длину с места	175	130-150	120	160	135-150	110
Метание малого мяча (м)	18	15	12	15	12	10

Гимнастика

Прыжки со скакалкой за 1 мин.	80	70	60	90	80	70
Поднимание туловища из положения лёжа на спине за 30 сек.	21 и более	16-20	Менее 15 раз	20 и более	14-19	Менее 13 раз
Подтягивание в висе (раз)	4	2-3	1	-	-	-
Подтягивание в висе лёжа (раз)	-	-	-	14	6-10	3
Сгибание разгибание рук в упоре лёжа	15	10	6	10	7	5
Наклон вперёд из положения сидя (см)	7,5	3-5	1	11,5	5-8	2

4 класс Лёгкая атлетика

Контрольные упражнения (тест)	Мальчики			Девочки		
	Высокий "5"	Средний "4"	Низкий "3"	Высокий "5"	Средний "4"	Низкий "3"
Бег 30 м (сек)	5,0 и меньше	5,7-6,5	6,6 и больше	5,2 и меньше	6,0-6,5	6,6
Челночный бег 3*10м	8,8 и меньше	9,3-9,9	10,2	9,3 и меньше	10,3-9,7	10,8
Бег 1000 метров (мин)	5:50	6:10	6:50	6:10	6:30	6:50
Прыжок в длину с места	185	140-160	130	170	140-155	120
Метание малого мяча (м)	21	18	15	18	15	12

Гимнастика

Прыжки со скакалкой за 1 мин.	90	80	70	100	90	80
Поднимание туловища из положения лёжа на спине за 30 сек.	21 и более	16-28	Менее 12 раз	19 и более	13-28	Менее 12 раз
Подтягивание в висе (раз)	6	4	3	-	-	-
Подтягивание в висе лёжа (раз)	-	-	-	15	9	7
Сгибание разгибание рук в упоре лёжа	16	11	7	11	8	5
Наклон вперёд из положения сидя (см)	8	3-5	2	12	5-8	3

ОПИСАНИЕ ПОКАЗАТЕЛЕЙ И КРИТЕРИЕВ ОЦЕНИВАНИЯ

Оценка "5" - упражнение выполнено в соответствии с заданием, правильно, без напряжения, уверенно; в играх учащийся показал знание правил игры, умение пользоваться изученными упражнениями для быстрого достижения индивидуальных и коллективных целей в игре.

Оценка "4" - упражнение выполнено в соответствии с заданием, правильно, но недостаточно уверенно, в играх учащийся показал знание правил игры, но недостаточно уверенно умеет пользоваться изученными движениями для быстрого достижения результатов в игре.

Оценка "3" - упражнение выполнено правильно, но недостаточно точно, с большим напряжением, допущены незначительные ошибки; в играх учащийся не всегда умеет пользоваться изученными движениями.

Оценка "2" - упражнение выполнено неправильно, с грубыми ошибками; в играх учащийся показал слабое знание правил, неумение пользоваться изученными упражнениями.

Оценка успеваемости за четверть выставляется на основании данных текущего учета. Преимущественное значение следует придавать выполнению основных упражнений, изучаемых в течение четверти, а не общим показателям физического развития.

Оценка за год выставляется на основании четвертных оценок в соответствии с общепедагогическими требованиями.

Оценка за теоретические тесты

85 – 100 % – оценка «5»;

70 – 84 % – оценка «4»;

50 – 69 % – оценка «3»;

ниже 50% – оценка «2».

ТЕХНИКА И УСЛОВИЯ ВЫПОЛНЕНИЯ УПРАЖНЕНИЙ

1. Челночный бег 3x10м. На полу спортивного зала на расстоянии 10 м прочерчиваются 2 параллельные линии – «Старт» и «Финиш».

Участник, не наступая на стартовую линию, принимает положение высокого старта. По команде «Марш!» участник бежит до финишной линии, касается линии любой частью тела, возвращается к линии старта, касается ее и преодолевает последний отрезок без касания линии финиша. Участники стартуют по 2 человека. Запрещается использовать в качестве опоры при повороте какие-либо естественные или искусственные предметы.

2. Подтягивание на перекладине. Подтягивание на высокой перекладине выполняется из исходного положения: вис хватом сверху, кисти рук на ширине плеч, руки, туловище и ноги выпрямлены, ноги не касаются пола, ступни вместе. Участник подтягивается так, чтобы подбородок пересек верхнюю линию грифа перекладины, затем опускается в вис и продолжает

выполнение упражнения. Засчитывается количество правильно выполненных подтягиваний, фиксируемых счетом судьи. Пауза между повторениями не должна превышать 3 секунд.

Ошибки:

- 1) подтягивание рывками или с махами ног (туловища);
- 2) подбородок не поднялся выше грифа перекладины;
- 3) отсутствие фиксации на 0,5 сек. исходного положения;
- 3) разновременное сгибание рук.

3. Сгибание и разгибание рук в упоре лежа (отжимание). Сгибание и разгибание рук в упоре лежа выполняется из исходного положения: упор лежа на полу, руки на ширине плеч, кисти вперед, локти разведены не более 45 градусов, плечи, туловище и ноги составляют прямую линию. Стопы упираются в пол без опоры. Сгибая руки, необходимо коснуться грудью пола (или платформы высотой 5 см), затем, разгибая руки, вернуться в исходное положение и, зафиксировав его на 0,5 сек., продолжить выполнение упражнения. Разрешается одна попытка. Пауза между повторениями не должна превышать 3 сек. Засчитывается количество правильно выполненных сгибаний и разгибаний рук, фиксируемых счетом судьи.

Ошибки:

- 1) касание пола коленями, бедрами, тазом;
- 2) нарушение прямой линии "плечи - туловище - ноги";

- 3) отсутствие фиксации на 0,5 сек. Сходного положения;
- 4) одновременное разгибание рук.

4. Поднимание туловища из положения «лежа на спине» за 30 сек (1 мин.) Поднимание туловища из положения лежа выполняется из исходного положения: лежа на спине на гимнастическом мате, руки за головой, лопатки касаются мата, ноги согнуты в коленях под прямым углом, ступни прижаты партнером к полу. Участник выполняет максимальное количество подниманий за отрезок времени, касаясь локтями коленей, с последующим возвратом в исходное положение. Засчитывается количество правильно выполненных подниманий туловища. Для выполнения тестирования создаются пары, один из партнеров выполняет упражнение, другой удерживает его ноги за ступни и голени. Затем участники меняются местами.

Ошибки:

- 1) отсутствие касания локтями коленей;
- 2) отсутствие касания лопатками мата;
- 3) пальцы разомкнуты "из замка";
- 4) смещение таза.

5. Прыжок в длину с места. Участник принимает исходное положение: ноги на ширине плеч, ступни параллельно, носки ног перед линией измерения. Прыжок в длину с места выполняется толчком двумя ногами от стартовой линии с махом рук. Измерение производится по перпендикулярной прямой от линии измерения до ближайшего следа, оставленного любой частью тела участника. Участнику предоставляются три попытки. В зачет идет лучший результат.

Ошибки:

- 1) заступ за линию измерения или касание ее;
- 2) выполнение отталкивания с предварительного подскока;
- 3) отталкивание ногами одновременно.

6. Бег на 30 метров

Производится с высокого старта по сигналу судьи.

Оценивается по времени преодоления непрерывным бегом по обозначенной беговой дорожке расстояния в 30 метров в соответствии с нормативами.

7. Бег на 1000 метров

Производится с высокого старта по сигналу судьи.

Оценивается по времени преодоления непрерывным бегом по обозначенной дистанции расстояния в 1000 метров в соответствии с нормативами.